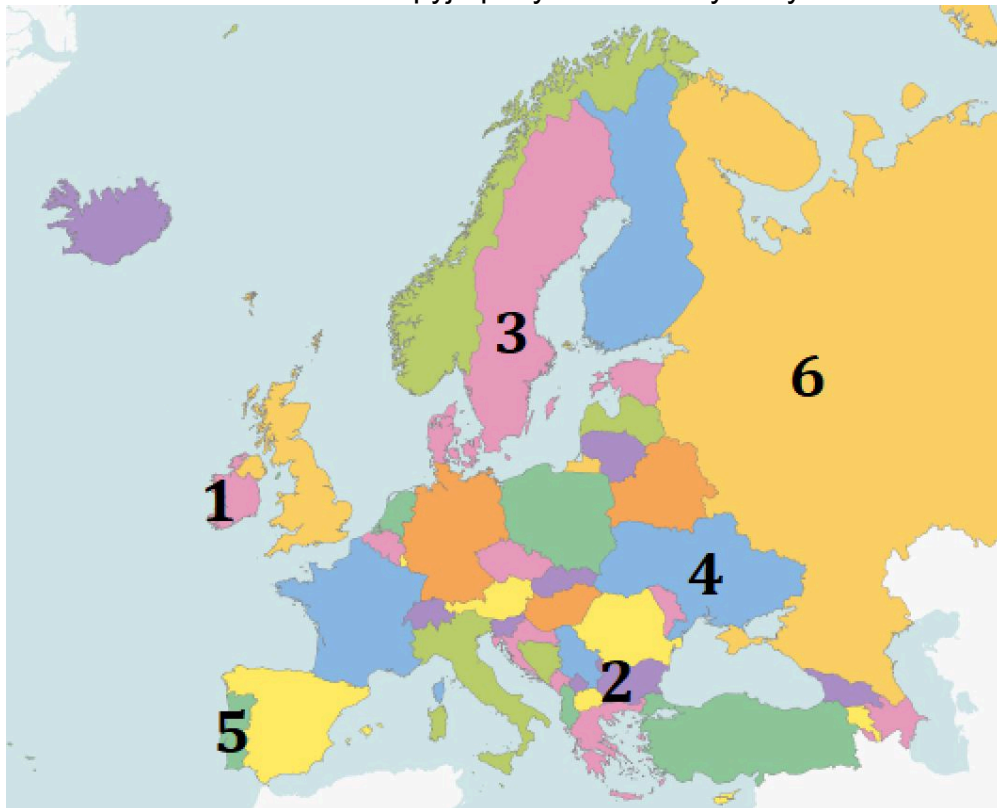


7 klasė. Europos ekonominės veiklos. LGMA

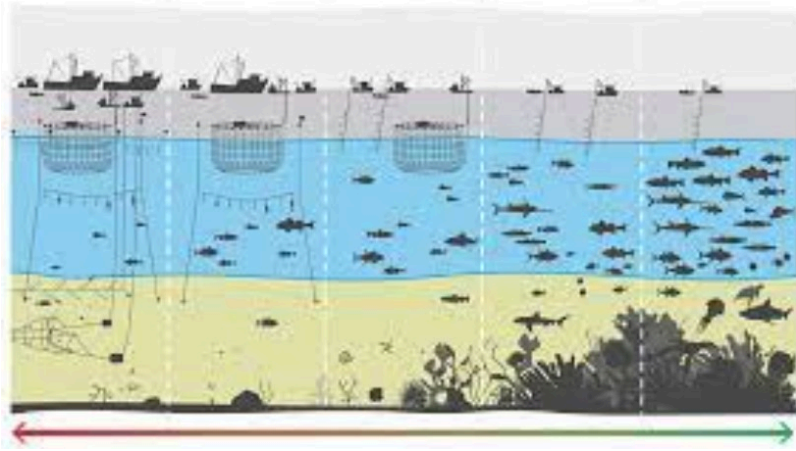
Vardas, pavardė: _____ Klasė: _____ Data: _____

Klausimas #1****Kurios dvi skaičiais žemėlapyje pažymėtos valstybės yra ekonomiškai stipriausios?**

- 6
- 5
- 3
- 1
- 2
- 4

Taškų skaičius už teisingą atsakymą: 2 Surinkta taškų: _____

Klausimas #2****Ką rodo paveikslo apačioje esanti rodyklė?**



- Žvejojant mažesniais laiveliais galima pagauti didesnes žuvis
- Mažinant žvejybinių laivų kiekį vandens telkiniuose atsikuria augalija ir gyvūnija
- Mažinant žvejybinių laivų kiekį vandens telkiniuose didėja augalijos kiekis
- Su povandeniniais tinklais žvejybiniai laivai pagauna didžiausius žuvų kiekius

Taškų skaičius už teisingą atsakymą: 1 Surinkta taškų: _____

Klausimas #3

Be kurių gamtinių išteklių negalėtų išgyventi žmogus?



A



B



C



D

- A
- D
- B
- C

Taškų skaičius už teisingą atsakymą: 1 Surinkta taškų: _____

Klausimas #4

**Kuriuos šiaurės Europos šalis turi daugiausia pramonei tinkamų gamtos išteklių ir sąlygas vystyti pramonę?

- Suomija
- Islandija
- Švedija

- Danija
 Norvegija

Taškų skaičius už teisingą atsakymą: 2 Surinkta taškų: _____

Klausimas #5

*Kurioje Europos vietoje užfiksuota naftos gavyba?



- Šiaurės jūroje
 Adrijos jūroje
 Bengalijos įlankoje
 Botnijos įlankoje

Taškų skaičius už teisingą atsakymą: 1 Surinkta taškų: _____

Klausimas #6

**Kur parenkama vieta medienos apdirbimo įmonės statybai Suomijoje?



- Prie didelių miestų
 Botnijos įlankos pakrantėje
 Upės ištakose
 Miškingose teritorijose

Taškų skaičius už teisingą atsakymą: 1 Surinkta taškų: _____

Klausimas #7

****Priskirkite šalims joms tinkamus apibūdinimus.**

1 Norvegija - ...

___ ... naftą išgauna Šiaurės jūroje

2 Švedija - ...

___ ... joje įkurtas baldų gamybos ir prekybos tinklas IKEA

3 Suomija - ...

___ ... visose pakrantėse susiformavo masinio turizmo regionai

4 Ispanija - ...

___ ... miškingiausia Europos valstybė

Taškų skaičius už teisingą atsakymą: 3 Surinkta taškų: _____

Klausimas #8

***Kuri iš šių šalių labiausiai urbanizuota?**

- Vokietija
 Monakas
 Danija
 Belgija

Taškų skaičius už teisingą atsakymą: 1 Surinkta taškų: _____

Klausimas #9

***Kuri valstybė nepriklauso Europos Sąjungai?**

- Suomija
 Danija
 Švedija
 Norvegija

Taškų skaičius už teisingą atsakymą: 1 Surinkta taškų: _____

Klausimas #10

****Koks reiškinys pavaizduotas piešinyje?**



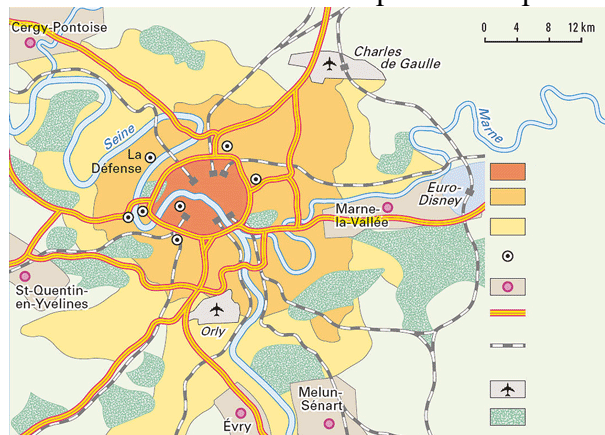
- Pakrantės užterštumas

- Masinis turizmas
- Pabėgėliai
- Didelis gyventojų tankumas

Taškų skaičius už teisingą atsakymą: 1 Surinkta taškų: _____

Klausimas #11

*Kurio tai labai didelio Europos miesto planas?



- Madrido
- Paryžiaus
- Berlyno
- Londono

Taškų skaičius už teisingą atsakymą: 1 Surinkta taškų: _____

Klausimas #12

*Parinkite teiginius, kurie pagrindžia pasakymą, kad „automobilių gamyba yra labai moderni“.

- Visos Europos šalys gamina automobilius
- Automobilių gamyboje yra naudojama daug kuniškų detalių
- Gaminama daug ir įvairių automobilių modelių
- Automobilių surinkimui padeda robotai
- Automobilių gamybos procesas yra automatizuotas
- Vidutinio dydžio transporto priemonė surenkama per keliolika valandų

Taškų skaičius už teisingą atsakymą: 3 Surinkta taškų: _____

Klausimas #13

***Kurioje vietoje racionaliausia statyti hidroelektrines?



- Sicilijos saloje
- Alpių kalnuose
- Saimos ežeryne
- Jutlandijos pusiasalyje

Taškų skaičius už teisingą atsakymą: 1 Surinkta taškų: _____

Klausimas #14

****Intensyvus drėkinimas Ispanijos žemės ūkyje paskatino požeminių vandenų druskėjimą. Iš kur druskingas vanduo patenka į požeminius vandenis?**

- Iš miestų
- Iš nuotekų stočių
- Iš Viduržemio jūros
- Iš druskos kasyklų

Taškų skaičius už teisingą atsakymą: 1 Surinkta taškų: _____

Klausimas #15


***Pažymėkite šalis, kurios Europoje išgauna akmens anglį.**

- Lenkija
- Latvija
- Graikija
- Norvegija
- Čekija

Taškų skaičius už teisingą atsakymą: 3 Surinkta taškų: _____

Klausimas #16

*****Kurio miesto vaizdas matomas iš drono užfiksuotoje nuotraukoje?**



- Paryžiaus
- Berlyno
- Amsterdamo
- Venecijos

Taškų skaičius už teisingą atsakymą: 1 Surinkta taškų: _____

Klausimas #17

****Kuri šalis plečia savo plotą įrenginėdama polderius?**



- Portugalija
- Lenkija
- Nyderlandai
- Norvegija

Taškų skaičius už teisingą atsakymą: 1 Surinkta taškų: _____

Klausimas #18

****Pažymėkite rodiklius, kurie tinka ekonomiškai stiprioms valstybėms.**

- Daug žmonių dirba žemės ūkyje
- Didelis BVP 1 gyventojui
- Pagaminama daug parmonės produkcijos
- Daug aukštųjų technologijų įmonių
- Maži atlyginimai
- Menkai išvystytas kelių tinklas

Klausimas #19

***Susiekite upes ir jų žiotyse esančius uostus.

- | | | | |
|---|-------------------|-------|------------|
| 1 | Antverpenas - ... | _____ | ... Sena |
| 2 | Londonas - ... | _____ | ... Temzė |
| 3 | Roterdamas - ... | _____ | ... Šeldė |
| 4 | Havras - ... | _____ | ... Reinas |
| 5 | Hamburgas - ... | _____ | ... Elbė |

Taškų skaičius už teisingą atsakymą: 5 Surinkta taškų: _____

Klausimas #20

**Kodėl kai kuriose Europos šalyse buvo sustabdyta akmens anglių gavyba?



- Gavyba tapo brangi ir nebepeilinga
- Dėl didžiulės oro taršos išgaunant akmens anglį
- Dėl nepatogaus akmens anglių transportavimo
- Iš anglių gaminama produkcija nebėra paklausi
- Dėl pasikeitusių aplinkosaugos reikalavimų

Taškų skaičius už teisingą atsakymą: 2 Surinkta taškų: _____

Klausimas #21

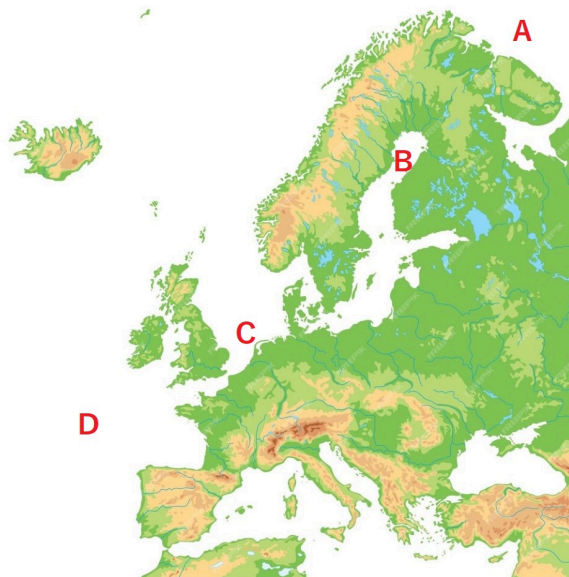
***Susiekite įmones su jų gaminama produkcija.

- | | | | |
|---|------------------|-------|-----------------------------|
| 1 | SCANIA - ... | _____ | ... elektrotechnikos prekės |
| 2 | Elektrolux - ... | _____ | ... sunkvežiniai |
| 3 | IKEA - ... | _____ | ... nafta, degalai |
| 4 | LEGO - ... | _____ | ... plastikiniai žaislai |
| 5 | Shell - ... | _____ | ... baldai |

Taškų skaičius už teisingą atsakymą: 4 Surinkta taškų: _____

Klausimas #22

*Kuri pažymėta vieta yra žuvingiausia?



- A
 B
 C
 D

Taškų skaičius už teisingą atsakymą: 1 Surinkta taškų: _____

Klausimas #23

**Atrinkite požymius, kurie tinka geležinkelio transportui.

- Ilgi krovos darbai
 Važiuoja punktualiai, mažai reaguoja į orų permainas
 Didelė aplinkos tarša
 Pati greičiausia transporto priemonė
 Veža daug krovinių ir keleivių
 Plati transportavimo geografija

Taškų skaičius už teisingą atsakymą: 3 Surinkta taškų: _____

Klausimas #24

**Išgaunant ir deginant akmens anglį keliama grėsmė aplinkai ir žmonėms. Pažymėkite teiginius parodančius grėsmę.

- Gavybos metu medžiagos užteršia vandenį ir dirvožemį
 Iš kasybos vietų iškeldinami gyventojai
 Darkomas kraštovaizdis
 Deginant išskiriamas didelis anglies dioksido kiekis
 Išsekus ištekliams žmonija liks be kuro
 Akmens anglių dulkių tarša sumažins Saulės aktyvumą

Taškų skaičius už teisingą atsakymą: 4 Surinkta taškų: _____

Klausimas #25

****Koks garsus turistų lankomas objektas pažymėtas Vokietijoje?**



- Reichstagas
- Kiolno katedra
- Brandenburgo vartai
- Triumfo arka

Taškų skaičius už teisingą atsakymą: 1 Surinkta taškų: _____

Klausimas #26

****Pažymėkite rodiklius, kurie parodo valstybių ekonominę galią.**

- Valstybės teritorijos dydis
- BVP 1 gyventojui
- Eksporto apimtys
- Gyventojų skaičius
- Gyventojų užimtumas ūkio sektoriuose
- Gimstamumo dydis

Taškų skaičius už teisingą atsakymą: 3 Surinkta taškų: _____

Klausimas #27

****Pažymėkite šalis, kurios Europoje išgauna naftą.**

- Norvegija
- Jungtinė Karalystė
- Nyderlandai
- Estija
- Šveicarija
- Švedija

Klausimas #28

Su kuriuo darnaus vystymosi tikslu susijusi Tausioji žvejyba?



6. Švarus vanduo ir higiena
13. Sumažinti klimato kaitos poveikį
10. Sumažinti nelygybę
14. Gyvybė vandenyse

Taškų skaičius už teisingą atsakymą: 1 Surinkta taškų: _____

Klausimas #29

****Kokie principai yra būdingi tvariai miškininkystei?**

- Stengiamasi medienos atliekas išvežti atgal į mišką
- Daug eksportuojama neapdorotos medienos
- Apdirbimo įmonėse naudojami modernūs nuotekų valymo įrenginiai
- Vietoje spygliuočių atsodinami lapuočiai, kurių mediena yra vertingesnė
- Kertamas visas miškas, nepaliekant ir mažesnių medžių
- Miškų galima išskirsti tik tiek, kiek spėja ataugti

Taškų skaičius už teisingą atsakymą: 2 Surinkta taškų: _____

Klausimas #30

*Kurio atsinaujinančio šaltinio energetinis potencialas yra pats didžiausias, bet kol kas panaudojamas mažiausiai?



- Vėjo
- Vandens
- Biokuro
- Saulės

Taškų skaičius už teisingą atsakymą: 1 Surinkta taškų: _____

Klausimas #31

*Sąvokoms priskirkite tinkamus apibūdinimus.

- 1 Transporto infrastruktūra - ...
- 2 Transporto mazgas - ...
- 3 Transporto tinklas - ...
- 4 Tranzito šalis - ...

_____ ... šalis, per kurios teritoriją pervežami kroviniai iš vienos šalies į kitą

_____ ... dviejų ar daugiau transporto kelių susikirtimo vieta

_____ ... kelių sistema, skirta transporto srautams užtikrinti

_____ ... statinių ir įrenginių išteklių, skirti transporto veiklai užtikrinti

Taškų skaičius už teisingą atsakymą: 3 Surinkta taškų: _____

Klausimas #32

**Kurios tai Europos valstybės žinomų įmonių logotipai?



- Vokietijos
- Italijos
- Ispanijos
- Prancūzijos

Taškų skaičius už teisingą atsakymą: 1 Surinkta taškų: _____

Klausimas #33

**Kuris Reino intakas yra svarbiausias laivybai?



- Nekaras
- Aarè
- Mozelis
- Mainas

Taškų skaičius už teisingą atsakymą: **1** Surinkta taškų: _____

Klausimas #34

*Ką reiškia Tausioji žvejyba?

- Žuvingų teritorijų apsauga
- Žvejyba, kai vandenyne paliekamas tam tikras žuvų kiekis
- Tinka visi ankstesni apibūdinimai
- Nykstančių žuvų apsauga

Taškų skaičius už teisingą atsakymą: **1** Surinkta taškų: _____

Klausimas #35

*Priskirkite sąvokoms jų apibūdinimus.

1 Energijos ištekliai - ...

_____ ... kasybos vieta, kur naudingosios iškasenos kasamos požeminiu būdu

2 Neatsinaujinantys ištekliai - ...

_____ ... vieta Žemėje, kur yra didelė sanaupta naudingųjų iškasenų

3 Telkinys - ...

_____ ... vieta, kur atviruoju būdu kasamos naudingosios iškasenos

4 Karjeras - ...

_____ ... labai lėtai, per milijonus metų susidarantys energijos ištekliai

5 Šachta - ...

_____ ... nafta, gamtinės dujos, akmens anglis ir kiti ištekliai, iš kurių gaminama energija

Taškų skaičius už teisingą atsakymą: **4** Surinkta taškų: _____

Klausimas #36

**Kurie išvardinti teiginiai yra aktyvaus turizmo Viduržemio jūros regione kultūrinės priežastys?

- 1. Sveikas ir skanus tradicinis maistas. taip ne
- 2. Savitas pietiečių gyvenimo būdas. taip ne
- 3. Daug garsių istorinių paminklų. taip ne

4. Vyksta daug kultūrinių renginių. taip ne
5. Ilga jūros pakrantės linija. taip ne
6. Geras klimatas turizmui. taip ne

Taškų skaičius už teisingą atsakymą: 4 Surinkta taškų: _____

Klausimas #37

****Kodėl šiltnamiuose užauginamas toks didelis daržovių derlius?**




- Auginamos greitai augančios veislės
- Naudojamos trąšos skatina augimą
- Daug darbų padaroma rankomis
- Šiltnamių ūkius remia valstybė
- Per metus galima nuimti kelis derlius
- Beveik visi darbai automatizuoti

Taškų skaičius už teisingą atsakymą: 4 Surinkta taškų: _____

Klausimas #38

****Kurioje nuotraukoje užfiksuotas kraštovaizdis susijęs su žemės ūkio veikla, kuri plėtojama taip, kad aprūpintų vartotojus šviežiomis daržovėmis ištisus metus?**



- D
- A

- C
 B

Taškų skaičius už teisingą atsakymą: 1 Surinkta taškų: _____

Klausimas #39

*Kaip vadinami paveiksle pavaizduoti išteklių?



- Sudegantys
 Neatsinaujinantys
 Neišsenkantys
 Atsinaujinantys

Taškų skaičius už teisingą atsakymą: 1 Surinkta taškų: _____

Klausimas #40

*Kuris kalnų įrenginys padeda automobiliams nusileisti stačiais kalnų šlaitais?

- Viadukas
 Galerija
 Serpantinas
 Tunelis

Taškų skaičius už teisingą atsakymą: 1 Surinkta taškų: _____

Klausimas #41

**Kurios teritorijos sudaro Jungtinę Karalystę?



- Velsas, Škotija, Anglija, Šiaurės Airija
- Šiaurės Airija, Velsas, Škotija, Bretanė
- Anglija, Bretanė, Šiaurės Airija, Velsas
- Velsas, Škotija, Anglija, Airija

Taškų skaičius už teisingą atsakymą: **1** Surinkta taškų: _____

Klausimas #42

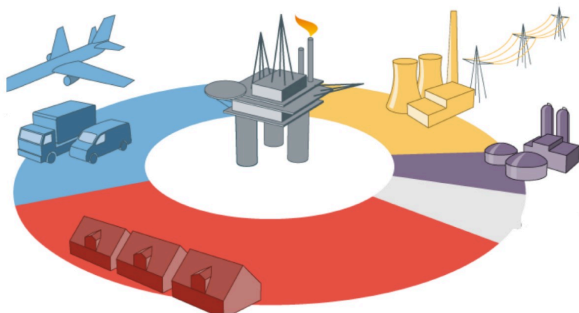
*Kuri kalnų kelių infrastruktūros dalis sutrumpina reikiamą įveikti maršrutą?

- Tunelis
- Serpantinai
- Galerija
- Šlaito sutvirtinimas

Taškų skaičius už teisingą atsakymą: **1** Surinkta taškų: _____

Klausimas #43

*Kuriam ekonomikos sektoriui daugiausia yra sunaudojama naftos?



- Chemijos pramonei

- Transportui
- Elektros energijai gaminti
- Buitiniam šildymui

Taškų skaičius už teisingą atsakymą: **1** Surinkta taškų: _____

Klausimas #44

****Kodėl toks žuvingas Šiaurės Atlantas?**

- Žvejybos kvotos neleidžia žvejoti, todėl vandenyne lieka daug žuvies
- Šaltas vandenyno vanduo, todėl žuvis gyvena ilgiau
- Daug planktono, kuriuo minta žuvis
- Gilios vandenyno vietos, kur yra daug žuvies

Taškų skaičius už teisingą atsakymą: **1** Surinkta taškų: _____

Klausimas #45


*****Sujungkite automobilių modelius su juos gaminančiomis šalimis.**

- | | | |
|----------------------------|-------|-------------|
| 1 Italija - ... | _____ | ... Audi |
| 2 Jungtinė Karalystė - ... | _____ | ... Rover |
| 3 Švedija - ... | _____ | ... Seat |
| 4 Vokietija - ... | _____ | ... Dacia |
| 5 Prancūzija - ... | _____ | ... Volvo |
| 6 Čekija - ... | _____ | ... Renault |
| 7 Rumunija ... | _____ | ... Fiat |
| 8 Ispanija - ... | _____ | ... Škoda |

Taškų skaičius už teisingą atsakymą: **4** Surinkta taškų: _____

Klausimas #46

****Atpažinkite Viduržemio kultūras. Susiekite skaičius su kultūrų pavadinimais.**



- 1 Medvilnė - ... ____ ... 9
 2 Alyvuogės - ... ____ ... 4
 3 Migdolai - ... ____ ... 6
 4 Persikai - ... ____ ... 3
 5 Apelsinai - ... ____ ... 8

Taškų skaičius už teisingą atsakymą: 5 Surinkta taškų: _____

Klausimas #47

**Tekste „Europos atsinaujinanti energetika“ parinkite tinkamus žodžius.

Europos šalyse atsinaujinantys energijos ištekliai užima svarbią vietą ir jų naudojimas _____. _____ yra viena pirmaujančių valstybių Europoje pagal jūrinio vėjo panaudojimą elektrai gaminti. _____, kuri yra seismiškai aktyvi, daug energijos pagamina naudodama Žemės gelmių šilumą. Kalnuotoje ir drėgnoje _____ yra daug kalnų upių, todėl šioje šalyje gausu hidroelektrinių. Daug miškų turinti _____ energijai gaminti naudoja biokuro išteklius.

Taškų skaičius už teisingą atsakymą: 5 Surinkta taškų: _____

Klausimas #48

*Kurios nuotraukose galima atpažinti ekonomiškai stiprių valstybių žemės ūkio vaizdus?



- C ir D
 A ir B
 B ir D
 B ir C

Taškų skaičius už teisingą atsakymą: 1 Surinkta taškų: _____

Klausimas #49

****Su kokiomis problemomis susiduria ekonomiškai stiprių valstybių gyventojai?**

- Nėra kur laikyti santaupų
 Sunku nusipirkti prabangos prekių
 Didėja atskirtis tarp pasiturinčių ir nepasiturinčių
 Didelė aplinkos tarša
 Aukštos būstų kainos, negali įpirkti jaunimas
 Aukštos gyvenimo kainos miestuose

Taškų skaičius už teisingą atsakymą: 4 Surinkta taškų: _____

Klausimas #50

****Pažymėkite masinio turizmo daromą teigiamą įtaką šalies ekonomikai.**

- Didelis gyventojų skaičius
 Naujos darbo vietos viešbučiuose ir restoranuose
 Didesnis paslaugų pasirinkimas
 Aukštos kainos, atitinkančios turistų galimybes
 Didėjanti aplinkos tarša
 Padidėjusios pajamos

Taškų skaičius už teisingą atsakymą: 3 Surinkta taškų: _____

Klausimas #51

*****Surikiuokite eilės tvarka baldų gamybos etapus.**

___ Iš medienos pagaminamos baldų detalės

- Baldų gabenimas į prekybos vietą
- Baldų surinkimas iš atskirų detalių
- Lentpjūvėje iš rąstų supjaunama mediena
- Medienos kirtimas
- Baldų supakavimas
- Šakų genėjimas, rąstų paruošimas
- Rąstų gabenimas

Taškų skaičius už teisingą atsakymą: 4 Surinkta taškų: _____

Klausimas #52

*Be ko negalėtų būti vystomas žemės ūkis Pietų Europoje?



- Be drėkinimo
- Be statomų šiltnamių
- Be rankų darbo
- Be imigrantų darbo jėgos

Taškų skaičius už teisingą atsakymą: 1 Surinkta taškų: _____

Klausimas #53

***Pažymėkite oro transporto privalumus (taip) ir trūkumus (ne).

1. Brangiausia transporto priemonė ir pervežimai. taip ne
2. Dideli triukšmą skleidžiantis transportas. taip ne
3. Pasižymi didele tarša. taip ne
4. Gali įveikti labai ilgus atstumus. taip ne
5. Greičiausia transporto rūšis. taip ne
6. Plati kelionių geografija. taip ne

Taškų skaičius už teisingą atsakymą: 3 Surinkta taškų: _____

Klausimas #54

****Eilės tvarka surikiuokite automobilio gamybos etapus.**




- Plieno paruošimas
- Projektavimas
- Kėbulo gamyba
- Salono ir kitų detalių surinkimas
- Važiuklės surinkimas
- Kėbulo dažymas
- Pardavimas
- Automobilio testavimas

Taškų skaičius už teisingą atsakymą: 4 Surinkta taškų: _____

Klausimas #55

***Kurioje iš šių išvardintų šalių Saulės energijos potencialas yra didžiausias?**



- Ispanija
- Lietuva
- Norvegija
- Airija

Taškų skaičius už teisingą atsakymą: 1 Surinkta taškų: _____

Klausimas #56

***Kuris drėkinimo būdas yra pats efektyviausias (mažiausiai išgarina vandens)?**



- Purškiamasis
- Lašinamasis
- Kanalais
- Požeminis

Taškų skaičius už teisingą atsakymą: **1** Surinkta taškų: _____

Klausimas #57

*Kas yra akvakultūra?

- Vandens pramogų parko atrakcionai
- Akvariumams skirtos augalų rūšys
- Žuvų išteklių auginimas tvenkiniuose, jūrų lagūnose, priekrantėse
- Specialios žuvų rūšys, kurios prisitaikysios gyventi ir sūriame, ir gėlame vandenyje

Taškų skaičius už teisingą atsakymą: **1** Surinkta taškų: _____

Klausimas #58

Kokiu būdu akmens anglis išgaunama paveiksle?




- Karjeruose
- Požeminiu būdu
- Šachtose
- Platformuose

Taškų skaičius už teisingą atsakymą: **1** Surinkta taškų: _____

Klausimas #59

***Kuriame variante teisingai sužymėti Viduržemio kultūriniai augalai, kurie buvo atvežti iš Amerikos?



- 3, 4, 12
 5, 10, 11
 1, 3, 7
 3, 5, 9

Taškų skaičius už teisingą atsakymą: 1 Surinkta taškų: _____

Klausimas #60

***Sujunkite atsinaujinančios energijos rūšis su jų skaičiais paveiksle.



- 1 1 - ... _____ ... Biomasė ir atliekos
 2 2 - ... _____ ... Potvynių, bangų energija
 3 3 - ... _____ ... Vėjo energija
 4 4 - ... _____ ... Hidroenergija
 5 5 - ... _____ ... Saulės energija
 6 6 - ... _____ ... Žemės gelmių energija

Taškų skaičius už teisingą atsakymą: 5 Surinkta taškų: _____

Klausimas #61

****Kur surenkami keleiviniai lėktuvai A380?**

- Jungtinėje Karalystėje, Londone
- Prancūzijoje, Tulūzoje
- Vokietijoje, Frankfurte prie Maino
- Italijoje, Milane

Taškų skaičius už teisingą atsakymą: **1** Surinkta taškų: _____

Klausimas #62

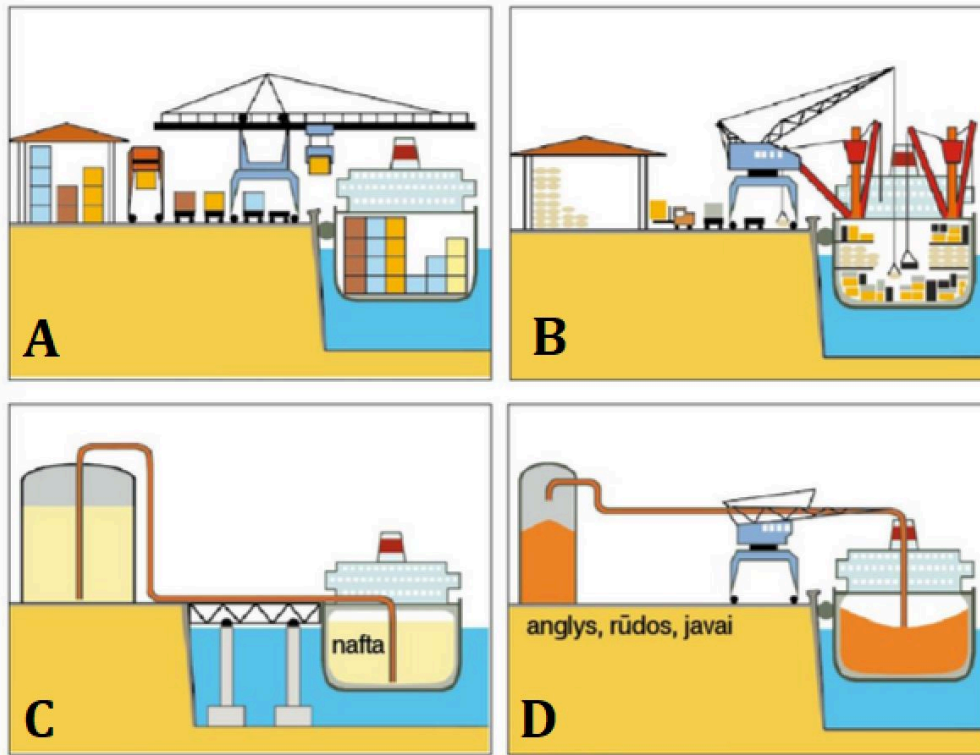
*****Lankomiausiems Pietų Europos objektams parinkite miestus, kuriuose juos galima pamatyti.**

- | | |
|-------------------------------|---------------------|
| 1 Šv. Šeimynos bažnyčia - ... | _____ ... Roma |
| 2 Alhambros rūmai - ... | _____ ... Stambulas |
| 3 Koliziejus - ... | _____ ... Granada |
| 4 Hadžia Sofija mečetė - ... | _____ ... Barselona |
| 5 Akropolis - ... | _____ ... Atėnai |
| 6 Luvras - ... | _____ ... Paryžius |

Taškų skaičius už teisingą atsakymą: **5** Surinkta taškų: _____

Klausimas #63

***Kuriame paveikslėlyje parodytas konteinerių terminalas?**

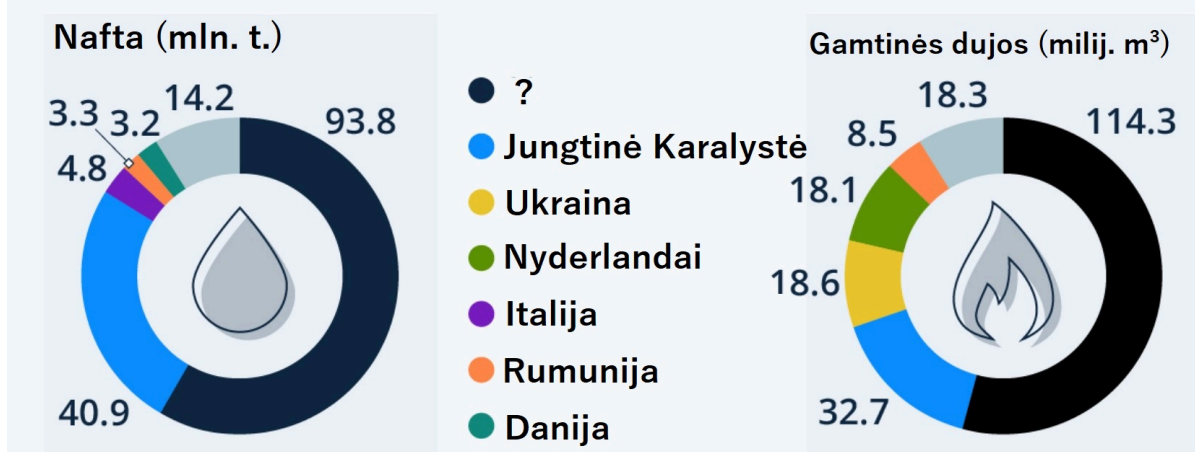


- A
- B
- D
- C

Taškų skaičius už teisingą atsakymą: 1 Surinkta taškų: _____

Klausimas #64

*Kuri Europos valstybė pagal naftos ir gamtinių dujų gavybą yra 1 vietoje?



- Norvegija
- Ispanija
- Vokietija
- Rumunija

Taškų skaičius už teisingą atsakymą: 1 Surinkta taškų: _____

Klausimas #65

***Pažymėkite dvi valstybes, kurių BVP 1 gyv. yra didesnis už Lietuvos.

- Kroatija
- Latvija
- Graikija
- Austrija
- Lenkija
- Nyderlandai

Taškų skaičius už teisingą atsakymą: 2 Surinkta taškų: _____

Klausimas #66

Pažymėkite masinio turizmo keliamas problemas.

- Vietos gyventojai įtraukiami į turizmo verslą
- Išaugusios regiono gyventojų pajamos
- Laikinas darbas tik turizmo sezono metu
- Vandens tiekimas ir nuotekų valymas
- Automobilių eismo spūstys, triukšmas, tarša
- Atvykstantys turistai trikdo vietos gyventojų kasdienybę

Taškų skaičius už teisingą atsakymą: 4 Surinkta taškų: _____

Klausimas #67

**Kuris būdas naftos ir gamtinių dujų gabenimui yra patogiausias?



- Geležinkelio sistemos
- Automobilių sistemos
- Tanklaiviai
- Vamzdynai

Taškų skaičius už teisingą atsakymą: 1 Surinkta taškų: _____

Klausimas #68

*Kuriame mieste yra ilgai statoma ir vis dar nebaigta Šventosios Šeimynos bažnyčia?



- Romoje
- Madride
- Barselonoje
- Paryžiuje

Taškų skaičius už teisingą atsakymą: 1 Surinkta taškų: _____

Klausimas #69

*Kaip Ispanijoje vadinama drėkinamoji sritis?

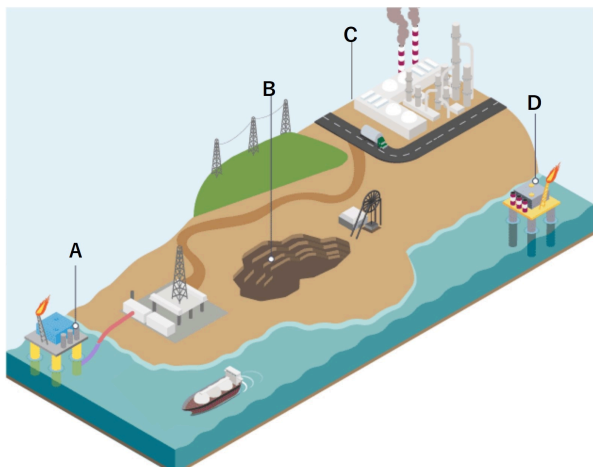


- Kanalai
- Užtvanka
- Tvanas
- Huerta

Taškų skaičius už teisingą atsakymą: 1 Surinkta taškų: _____

Klausimas #70

*Kuris paveiksle parodytas gavybos būdas yra tinkamas akmens anglims išgauti?



- A
 D
 C
 B

Taškų skaičius už teisingą atsakymą: 1 Surinkta taškų: _____

Klausimas #71

**Pažymėkite šalis, kurios Europoje pagal atvykstančių turistų skaičių patenka į TOP 5.

- Lenkija
 Suomija
 Rusija
 Ispanija
 Graikija
 Prancūzija

Taškų skaičius už teisingą atsakymą: 3 Surinkta taškų: _____

Klausimas #72

*Kaip vadinamas žuvų auginimas netoli kranto panardintuose narvuose?



- Planktonas
 Akvakultūra
 Veisimas
 Įžuvinimas

Taškų skaičius už teisingą atsakymą: 1 Surinkta taškų: _____

Klausimas #73

****Apie kokį miestą čia rašoma?**

Šio miesto pavadinimas yra toks pat, kaip ir ežero, prie kurio jis įsikūręs. Tai žymus miestas, dar vadinamas „tarptautine sostine“, „pasauliniu miestu“, nes jame įsikūrę Jungtinių Tautų organizacija, Europos ekonomikos komisija, Tarptautinis raudonasis kryžius bei dar apie 200 įvairių organizacijų būstinių.



- Bernas
- Ženeva
- Marselis
- Budapeštas

Taškų skaičius už teisingą atsakymą: **1** Surinkta taškų: _____

Klausimas #74

Kurios rūšies energiją naudoja ši interneto stotelė?



- Saulės
- Vandens
- Biokuro
- Vėjo

Taškų skaičius už teisingą atsakymą: 1 Surinkta taškų: _____

Klausimas #75

****Kurios sąlygos skatina masinio turizmo atsiradimą?**

- Gausu lankomų objektų ir pramogų už kuo mažesnę kainą
- Išvystytas dviračių takų tinklas
- Daug maitinimo vietų, kurios pritaikytos prie turistų poreikių
- Daugybę viešbučių ir pramogų vietų
- Saugomų teritorijų steigimas
- Švarus oras, vanduo ir daug žalumos

Taškų skaičius už teisingą atsakymą: 3 Surinkta taškų: _____

Klausimas #76

*****Teisingai parinkite šalių elektros energijos gamybos ypatumus.**

- | | |
|---------------------|---|
| 1 Norvegijoje - ... | _____ ... 83% elektros pagaminama šiluminėse elektrinėse |
| 2 Danijoje- ... | _____ ... visa elektra pagaminama iš atsinaujinančių šaltinių |
| 3 Švedijoje - ... | _____ ... 43% elektros pagaminama branduolinėse jėgainėse |
| 4 Islandija - ... | _____ ... 98% elektros energijos pagaminama hidroelektrinėse |

Taškų skaičius už teisingą atsakymą: 3 Surinkta taškų: _____

Klausimas #77

****Kuris Čekijos miestas garsus aludaryste ir automobilių pramone?**



- Brno
- Praha
- Pilzenas
- Liberecas

Taškų skaičius už teisingą atsakymą: 1 Surinkta taškų: _____

Klausimas #78

****Pažymėkite šalis, kurios patenka tarp 10 turtingiausių Europos valstybių.**

- Šveicarija
- Liuksemburgas
- Moldova
- Ukraina
- Norvegija
- Kosovas

Taškų skaičius už teisingą atsakymą: 3 Surinkta taškų: _____

Klausimas #79

*****Kodėl medienos apdirbimo įmonės Suomijoje įkurtos vietose, kur upės įteka į Baltijos jūrą?**



- Medieną atplukdoma upėmis
- Dėl gražaus kraštovaizdžio
- Importuojama medienos žaliava
- Vanduo reikalingas gaisrams gesinti
- Patogu eksportuoti medienos gaminius

Taškų skaičius už teisingą atsakymą: 2 Surinkta taškų: _____

Klausimas #80

****Koks yra pagrindinis Europos Sąjungos solidarumo politikos tikslas?**

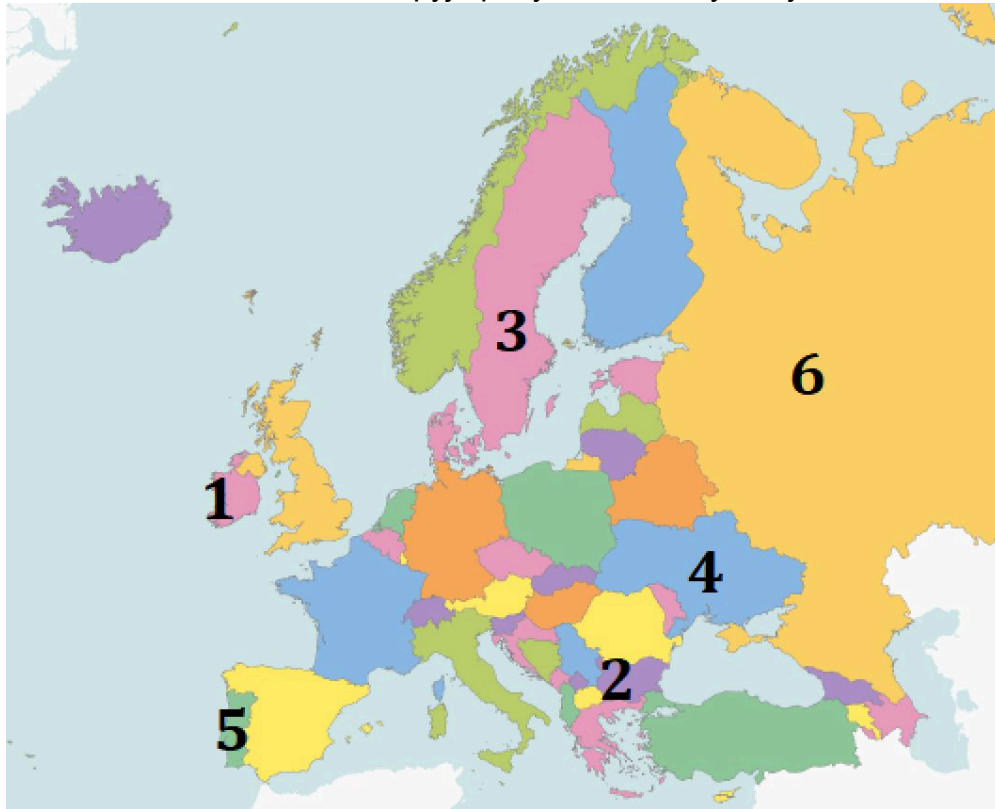
- Mažinti ekonominius ir socialinius skirtumus tarp valstybių
- Skatinti pasiturinčius žmones mokėti didesnius mokesčius
- Visiems nepasiturintiems teikti nemokamas paslaugas
- Suvienodinti Europos žmonių gyvenimo būdą

Taškų skaičius už teisingą atsakymą: 1 Surinkta taškų: _____

Maksimalus taškų skaičius: 164 Surinkta taškų: _____ Pažymys: _____

7 klasė. Europos ekonominės veiklos. LGMA - ATSAKYMAI**Klausimas #1**

****Kurios dvi skaičiais žemėlapyje pažymėtos valstybės yra ekonomiškai stipriausios?**

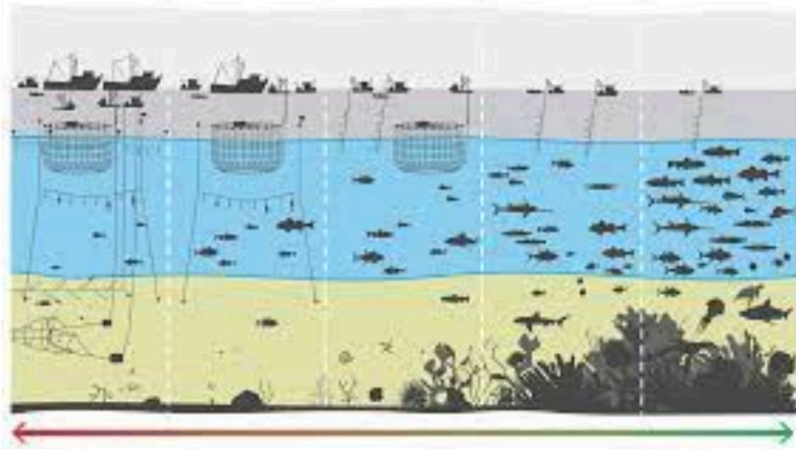


- 6
- 5
- 3
- 1
- 2
- 4

Taškų skaičius už teisingą atsakymą: 2

Klausimas #2

****Ką rodo paveikslo apačioje esanti rodyklė?**



- Žvejojant mažesniais laiveliais galima pagauti didesnes žuvis
- Mažinant žvejybinių laivų kiekį vandens telkiniuose atsikuria augalija ir gyvūnija
- Mažinant žvejybinių laivų kiekį vandens telkiniuose didėja augalijos kiekis
- Su povandeniniais tinklais žvejybiniai laivai pagauna didžiausius žuvų kiekius

Taškų skaičius už teisingą atsakymą: 1

Klausimas #3

Be kurių gamtinių išteklių negalėtų išgyventi žmogus?



A



B



C



D

- A
- D
- B
- C

Taškų skaičius už teisingą atsakymą: 1

Klausimas #4

**Kurios šiaurės Europos šalys turi daugiausia pramonei tinkamų gamtos išteklių ir sąlygas vystyti pramonę?

- Suomija
- Islandija
- Švedija

- Danija
 Norvegija

Taškų skaičius už teisingą atsakymą: 2

Klausimas #5

*Kurioje Europos vietoje užfiksuota naftos gavyba?



- Šiaurės jūroje
 Adrijos jūroje
 Bengalijos įlankoje
 Botnijos įlankoje

Taškų skaičius už teisingą atsakymą: 1

Klausimas #6

**Kur parenkama vieta medienos apdirbimo įmonės statybai Suomijoje?



- Prie didelių miestų
 Botnijos įlankos pakrantėje
 Upės ištakose
 Miškingose teritorijose

Taškų skaičius už teisingą atsakymą: 1

Klausimas #7

****Priskirkite šalims joms tinkamus apibūdinimus.**

- 1 Norvegija - ...
- 2 Švedija - ...
- 3 Suomija - ...
- 4 Ispanija - ...

- 1 ... naftą išgauna Šiaurės jūroje
- 2 ... joje įkurtas baldų gamybos ir prekybos tinklas IKEA
- 4 ... visose pakrantėse susiformavo masinio turizmo regionai
- 3 ... miškingiausia Europos valstybė

Taškų skaičius už teisingą atsakymą: 3

Klausimas #8

***Kuri iš šių šalių labiausiai urbanizuota?**

- Vokietija
 Monakas
 Danija
 Belgija

Taškų skaičius už teisingą atsakymą: 1

Klausimas #9

***Kuri valstybė nepriklauso Europos Sąjungai?**

- Suomija
 Danija
 Švedija
 Norvegija

Taškų skaičius už teisingą atsakymą: 1

Klausimas #10

****Koks reiškinys pavaizduotas piešinyje?**



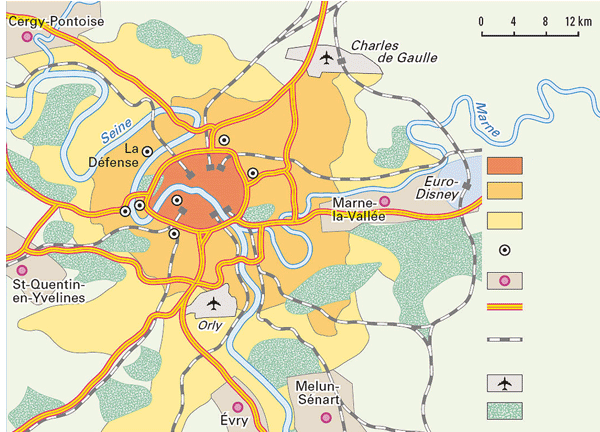
- Pakrantės užterštumas

- Masinis turizmas
- Pabėgėliai
- Didelis gyventojų tankumas

Taškų skaičius už teisingą atsakymą: 1

Klausimas #11

*Kurio tai labai didelio Europos miesto planas?



- Madrido
- Paryžiaus
- Berlyno
- Londono

Taškų skaičius už teisingą atsakymą: 1

Klausimas #12

*Parinkite teiginius, kurie pagrindžia pasakymą, kad „automobilių gamyba yra labai moderni“.

- Visos Europos šalys gamina automobilius
- Automobilių gamyboje yra naudojama daug kuniškų detalių
- Gaminama daug ir įvairių automobilių modelių
- Automobilių surinkimui padeda robotai
- Automobilių gamybos procesas yra automatizuotas
- Vidutinio dydžio transporto priemonė surenkama per keliolika valandų

Taškų skaičius už teisingą atsakymą: 3

Klausimas #13

***Kurioje vietoje racionaliausia statyti hidroelektrines?



- Sicilijos saloje
- Alpių kalnuose
- Saimos ežeryne
- Jutlandijos pusiasalyje

Taškų skaičius už teisingą atsakymą: 1

Klausimas #14

****Intensyvus drėkinimas Ispanijos žemės ūkyje paskatino požeminių vandenų druskėjimą. Iš kur druskingas vanduo patenka į požeminius vandenis?**

- Iš miestų
- Iš nuotekų stočių
- Iš Viduržemio jūros
- Iš druskos kasyklų

Taškų skaičius už teisingą atsakymą: 1

Klausimas #15


***Pažymėkite šalis, kurios Europoje išgauna akmens anglį.**

- Lenkija
- Latvija
- Graikija
- Norvegija
- Čekija

Taškų skaičius už teisingą atsakymą: 3

Klausimas #16

*****Kurio miesto vaizdas matomas iš drono užfiksuotoje nuotraukoje?**



- Paryžiaus
- Berlyno
- Amsterdamo
- Venecijos

Taškų skaičius už teisingą atsakymą: 1

Klausimas #17

****Kuri šalis plečia savo plotą įrenginėdama polderius?**



- Portugalija
- Lenkija
- Nyderlandai
- Norvegija

Taškų skaičius už teisingą atsakymą: 1

Klausimas #18

****Pažymėkite rodiklius, kurie tinka ekonomiškai stiprioms valstybėms.**

- Daug žmonių dirba žemės ūkyje
- Didelis BVP 1 gyventojui
- Pagaminama daug parmonės produkcijos
- Daug aukštųjų technologijų įmonių
- Maži atlyginimai
- Menkai išvystytas kelių tinklas

Klausimas #19

***Susiekite upes ir jų žiotyse esančius uostus.

- | | |
|---------------------|---------------------|
| 1 Antverpenas - ... | <u>4</u> ... Sena |
| 2 Londonas - ... | <u>2</u> ... Temzė |
| 3 Roterdamas - ... | <u>1</u> ... Šeldė |
| 4 Havras - ... | <u>3</u> ... Reinas |
| 5 Hamburgas - ... | <u>5</u> ... Elbė |

Taškų skaičius už teisingą atsakymą: 5

Klausimas #20

**Kodėl kai kuriose Europos šalyse buvo sustabdyta akmens anglių gavyba?



- Gavyba tapo brangi ir nebepeilinga
- Dėl didžiulės oro taršos išgaunant akmens anglį
- Dėl nepatogaus akmens anglių transportavimo
- Iš anglių gaminama produkcija nebėra paklausė
- Dėl pasikeitusių aplinkosaugos reikalavimų

Taškų skaičius už teisingą atsakymą: 2

Klausimas #21

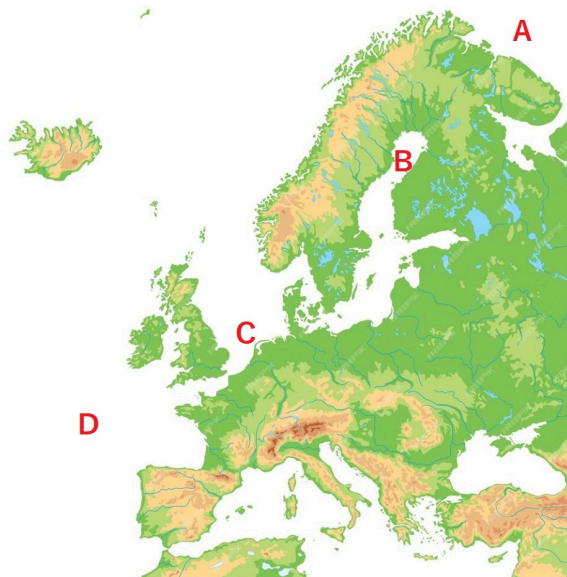
***Susiekite įmones su jų gaminama produkcija.

- | | |
|--------------------|--------------------------------------|
| 1 SCANIA - ... | <u>2</u> ... elektrotechnikos prekės |
| 2 Elektrolux - ... | <u>1</u> ... sunkvežiniai |
| 3 IKEA - ... | <u>5</u> ... nafta, degalai |
| 4 LEGO - ... | <u>4</u> ... plastikiniai žaislai |
| 5 Shell - ... | <u>3</u> ... baldai |

Taškų skaičius už teisingą atsakymą: 4

Klausimas #22

*Kuri pažymėta vieta yra žuvingiausia?



- A
 B
 C
 D

Taškų skaičius už teisingą atsakymą: 1

Klausimas #23

**Atrinkite požymius, kurie tinka geležinkelio transportui.

- Ilgi krovos darbai
 Važiuoja punktualiai, mažai reaguoja į orų permainas
 Didelė aplinkos tarša
 Pati greičiausia transporto priemonė
 Veža daug krovinių ir keleivių
 Plati transportavimo geografija

Taškų skaičius už teisingą atsakymą: 3

Klausimas #24

**Išgaunant ir deginant akmens anglį keliama grėsmė aplinkai ir žmonėms. Pažymėkite teiginius parodančius grėsmę.

- Gavybos metu medžiagos užteršia vandenį ir dirvožemį
 Iš kasybos vietų išskeldinami gyventojai
 Darkomas kraštovaizdis
 Deginant išskiriamas didelis anglies dioksido kiekis
 Išsekus ištekliams žmonija liks be kuro
 Akmens anglių dulkių tarša sumažins Saulės aktyvumą

Taškų skaičius už teisingą atsakymą: 4

Klausimas #25

****Koks garsus turistų lankomas objektas pažymėtas Vokietijoje?**



- Reichstagas
- Kiolno katedra
- Brandenburgo vartai
- Triumfo arka

Taškų skaičius už teisingą atsakymą: 1

Klausimas #26

****Pažymėkite rodiklius, kurie parodo valstybių ekonominę galią.**

- Valstybės teritorijos dydis
- BVP 1 gyventojui
- Eksporto apimtys
- Gyventojų skaičius
- Gyventojų užimtumas ūkio sektoriuose
- Gimstamumo dydis

Taškų skaičius už teisingą atsakymą: 3

Klausimas #27

****Pažymėkite šalis, kurios Europoje išgauna naftą.**

- Norvegija
- Jungtinė Karalystė
- Nyderlandai
- Estija
- Šveicarija
- Švedija

Klausimas #28

Su kuriuo darnaus vystymosi tikslu susijusi Tausioji žvejyba?



- 6. Švarus vanduo ir higiena
- 13. Sumažinti klimato kaitos poveikį
- 10. Sumažinti nelygybę
- 14. Gyvybė vandenyse

Taškų skaičius už teisingą atsakymą: 1

Klausimas #29

****Kokie principai yra būdingi tvariai miškininkystei?**

- Stengiamasi medienos atliekas išvežti atgal į mišką
- Daug eksportuojama neapdorotos medienos
- Apdirbimo įmonėse naudojami modernūs nuotekų valymo įrenginiai
- Vietoje spygliuočių atsodinami lapuočiai, kurių mediena yra vertingesnė
- Kertamas visas miškas, nepaliekant ir mažesnių medžių
- Miškų galima išskirsti tik tiek, kiek spėja ataugti

Taškų skaičius už teisingą atsakymą: 2

Klausimas #30

*Kurio atsinaujinančio šaltinio energetinis potencialas yra pats didžiausias, bet kol kas panaudojamas mažiausiai?



- Vėjo
- Vandens
- Biokuro
- Saulės

Taškų skaičius už teisingą atsakymą: 1

Klausimas #31

*Sąvokoms priskirkite tinkamus apibūdinimus.

1 Transporto infrastruktūra - ...

4 ... šalis, per kurios teritoriją pervežami kroviniai iš vienos šalies į kitą

2 Transporto mazgas - ...

2 ... dviejų ar daugiau transporto kelių susikirtimo vieta

3 Transporto tinklas - ...

3 ... kelių sistema, skirta transporto srautams užtikrinti

4 Tranzito šalis - ...

1 ... statinių ir įrenginių išteklių, skirti transporto veiklai užtikrinti

Taškų skaičius už teisingą atsakymą: 3

Klausimas #32

**Kurios tai Europos valstybės žinomų įmonių logotipai?




- Vokietijos
- Italijos
- Ispanijos
- Prancūzijos

Taškų skaičius už teisingą atsakymą: 1

Klausimas #33

**Kuris Reino intakas yra svarbiausias laivybai?



- Nekaras
 Aarè
 Mozelis
 Mainas

Taškų skaičius už teisingą atsakymą: 1

Klausimas #34

*Ką reiškia Tausioji žvejyba?

- Žuvingų teritorijų apsauga
 Žvejyba, kai vandenyne paliekamas tam tikras žuvų kiekis
 Tinka visi ankstesni apibūdinimai
 Nykstančių žuvų apsauga

Taškų skaičius už teisingą atsakymą: 1

Klausimas #35

*Priskirkite sąvokoms jų apibūdinimus.

1 Energijos ištekliai - ...

5 ... kasybos vieta, kur naudingosios iškasenos kasamos požeminiu būdu

2 Neatsinaujinantys ištekliai - ...

3 ... vieta Žemėje, kur yra didelė sanaupta naudingųjų iškasenų

3 Telkinys - ...

4 ... vieta, kur atviruoju būdu kasamos naudingosios iškasenos

4 Karjeras - ...

2 ... labai lėtai, per milijonus metų susidarantys energijos ištekliai

5 Šachta - ...

1 ... nafta, gamtinės dujos, akmens anglis ir kiti ištekliai, iš kurių gaminama energija

Taškų skaičius už teisingą atsakymą: 4

Klausimas #36

**Kurie išvardinti teiginiai yra aktyvaus turizmo Viduržemio jūros regione kultūrinės priežastys?

1. Sveikas ir skanus tradicinis maistas. taip ne
 2. Savitas pietiečių gyvenimo būdas. taip ne
 3. Daug garsių istorinių paminklų. taip ne

4. Vyksta daug kultūrinių renginių. taip ne
5. Ilga jūros pakrantės linija. taip ne
6. Geras klimatas turizmui. taip ne

Taškų skaičius už teisingą atsakymą: 4

Klausimas #37

****Kodėl šiltnamiuose užauginamas toks didelis daržovių derlius?**




- Auginamos greitai augančios veislės
- Naudojamos trąšos skatina augimą
- Daug darbų padaroma rankomis
- Šiltnamių ūkius remia valstybė
- Per metus galima nuimti kelis derlius
- Beveik visi darbai automatizuoti

Taškų skaičius už teisingą atsakymą: 4

Klausimas #38

****Kurioje nuotraukoje užfiksuotas kraštovaizdis susijęs su žemės ūkio veikla, kuri plėtojama taip, kad aprūpintų vartotojus šviežiomis daržovėmis ištisus metus?**



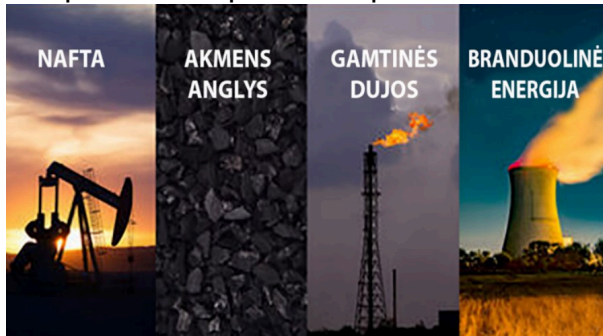
- D
- A

- C
- B

Taškų skaičius už teisingą atsakymą: 1

Klausimas #39

*Kaip vadinami paveiksle pavaizduoti ištekliai?



- Sudegantys
- Neatsinaujinantys
- Neišsenkantys
- Atsinaujinantys

Taškų skaičius už teisingą atsakymą: 1

Klausimas #40

*Kuris kalnų įrenginys padeda automobiliams nusileisti stačiais kalnų šlaitais?

- Viadukas
- Galerija
- Serpantinas
- Tunelis

Taškų skaičius už teisingą atsakymą: 1

Klausimas #41

**Kurios teritorijos sudaro Jungtinę Karalystę?



- Velsas, Škotija, Anglija, Šiaurės Airija
- Šiaurės Airija, Velsas, Škotija, Bretanė
- Anglija, Bretanė, Šiaurės Airija, Velsas
- Velsas, Škotija, Anglija, Airija

Taškų skaičius už teisingą atsakymą: 1

Klausimas #42

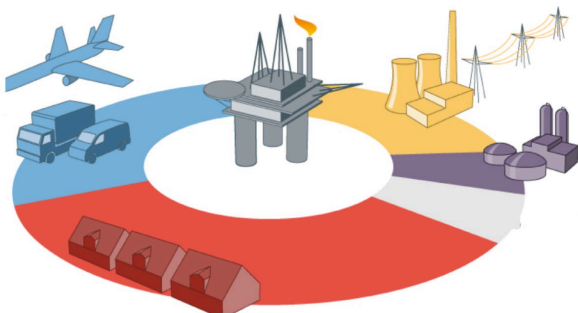
*Kuri kalnų kelių infrastruktūros dalis sutrumpina reikiamą įveikti maršrutą?

- Tunelis
- Serpantinai
- Galerija
- Šlaito sutvirtinimas

Taškų skaičius už teisingą atsakymą: 1

Klausimas #43

*Kuriam ekonomikos sektoriui daugiausia yra sunaudojama naftos?



- Chemijos pramonei

- Transportui
- Elektros energijai gaminti
- Buitiniam šildymui

Taškų skaičius už teisingą atsakymą: 1

Klausimas #44

****Kodėl toks žuvingas Šiaurės Atlantas?**

- Žvejybos kvotos neleidžia žvejoti, todėl vandenyne lieka daug žuvies
- Šaltas vandenyno vanduo, todėl žuvis gyvena ilgiau
- Daug planktono, kuriuo minta žuvis
- Gilios vandenyno vietos, kur yra daug žuvies

Taškų skaičius už teisingą atsakymą: 1

Klausimas #45


*****Sujungkite automobilių modelius su juos gaminančiomis šalimis.**

- | | |
|----------------------------|----------------------|
| 1 Italija - ... | <u>4</u> ... Audi |
| 2 Jungtinė Karalystė - ... | <u>2</u> ... Rover |
| 3 Švedija - ... | <u>8</u> ... Seat |
| 4 Vokietija - ... | <u>7</u> ... Dacia |
| 5 Prancūzija - ... | <u>3</u> ... Volvo |
| 6 Čekija - ... | <u>5</u> ... Renault |
| 7 Rumunija ... | <u>1</u> ... Fiat |
| 8 Ispanija - ... | <u>6</u> ... Škoda |

Taškų skaičius už teisingą atsakymą: 4

Klausimas #46

****Atpažinkite Viduržemio kultūras. Susiekite skaičius su kultūrų pavadinimais.**



- 1 Medvilnė - ... 1 ... 9
 2 Alyvuogės - ... 5 ... 4
 3 Migdolai - ... 2 ... 6
 4 Persikai - ... 4 ... 3
 5 Apelsinai - ... 3 ... 8

Taškų skaičius už teisingą atsakymą: 5

Klausimas #47

**Tekste „Europos atsinaujinanti energetika“ parinkite tinkamus žodžius.

Europos šalyse atsinaujinantys energijos ištekliai užima svarbią vietą ir jų naudojimas auga. Nyderland yra viena pirmaujančių valstybių Europoje pagal jūrinio vėjo panaudojimą elektrai gaminti. Islandija, kuri yra seismiškai aktyvi, daug energijos pagamina naudodama Žemės gelmių šilumą. Kalnuotoje ir drėgnoje Norvegijoje yra daug kalnų upių, todėl šioje šalyje gausu hidroelektrinių. Daug miškų turinti Švedija energijai gaminti naudoja biokuro išteklius.

Taškų skaičius už teisingą atsakymą: 5

Klausimas #48

*Kurios nuotraukose galima atpažinti ekonomiškai stiprių valstybių žemės ūkio vaizdus?



- C ir D
 A ir B
 B ir D
 B ir C

Taškų skaičius už teisingą atsakymą: 1

Klausimas #49

****Su kokiomis problemomis susiduria ekonomiškai stiprių valstybių gyventojai?**

- Nėra kur laikyti santaupų
 Sunku nusipirkti prabangos prekių
 Didėja atskirtis tarp pasiturinčių ir nepasiturinčių
 Didelė aplinkos tarša
 Aukštos būstų kainos, negali įpirkti jaunimas
 Aukštos gyvenimo kainos miestuose

Taškų skaičius už teisingą atsakymą: 4

Klausimas #50

****Pažymėkite masinio turizmo daromą teigiamą įtaką šalies ekonomikai.**

- Didelis gyventojų skaičius
 Naujos darbo vietos viešbučiuose ir restoranuose
 Didesnis paslaugų pasirinkimas
 Aukštos kainos, atitinkančios turistų galimybes
 Didėjanti aplinkos tarša
 Padidėjusios pajamos

Taškų skaičius už teisingą atsakymą: 3

Klausimas #51

*****Surikiuokite eilės tvarka baldų gamybos etapus.**

- 5** Iš medienos pagaminamos baldų detalės

- 8 Baldų gabenimas į prekybos vietą
- 6 Baldų surinkimas iš atskirų detalių
- 4 Lentpjūvėje iš rąstų supjaunama mediena
- 1 Medienos kirtimas
- 7 Baldų supakavimas
- 2 Šakų genėjimas, rąstų paruošimas
- 3 Rąstų gabenimas

Taškų skaičius už teisingą atsakymą: 4

Klausimas #52

*Be ko negalėtų būti vystomas žemės ūkis Pietų Europoje?



- Be drėkinimo
- Be statomų šiltnamių
- Be rankų darbo
- Be imigrantų darbo jėgos

Taškų skaičius už teisingą atsakymą: 1

Klausimas #53

***Pažymėkite oro transporto privalumus (taip) ir trūkumus (ne).

1. Brangiausia transporto priemonė ir pervežimai. taip ne
2. Dideli triukšmą skleidžiantis transportas. taip ne
3. Pasižymi didele tarša. taip ne
4. Gali įveikti labai ilgus atstumus. taip ne
5. Greičiausia transporto rūšis. taip ne
6. Plati kelionių geografija. taip ne

Taškų skaičius už teisingą atsakymą: 3

Klausimas #54

****Eilės tvarka surikiuokite automobilio gamybos etapus.**




- 2 Plieno paruošimas
- 1 Projektavimas
- 3 Kėbulo gamyba
- 6 Salono ir kitų detalių surinkimas
- 5 Važiuklės surinkimas
- 4 Kėbulo dažymas
- 8 Pardavimas
- 7 Automobilio testavimas

Taškų skaičius už teisingą atsakymą: 4

Klausimas #55

***Kurioje iš šių išvardintų šalių Saulės energijos potencialas yra didžiausias?**



- Ispanija
- Lietuva
- Norvegija
- Airija

Taškų skaičius už teisingą atsakymą: 1

Klausimas #56

***Kuris drėkinimo būdas yra pats efektyviausias (mažiausiai išgarina vandens)?**



- Purškiamasis
- Lašinamasis
- Kanalais
- Požeminis

Taškų skaičius už teisingą atsakymą: 1

Klausimas #57


*Kas yra akvakultūra?

- Vandens pramogų parko atrakcionai
- Akvariumams skirtos augalų rūšys
- Žuvų išteklių auginimas tvenkiniuose, jūrų lagūnose, priekrantėse
- Specialios žuvų rūšys, kurios prisitaikysios gyventi ir sūriame, ir gėlame vandenyje

Taškų skaičius už teisingą atsakymą: 1

Klausimas #58

Kokiu būdu akmens anglis išgaunama paveiksle?




- Karjeruose
- Požeminiu būdu
- Šachtose
- Platformuose

Taškų skaičius už teisingą atsakymą: 1

Klausimas #59

***Kuriame variante teisingai sužymėti Viduržemio kultūriniai augalai, kurie buvo atvežti iš Amerikos?



- 3, 4, 12
 5, 10, 11
 1, 3, 7
 3, 5, 9

Taškų skaičius už teisingą atsakymą: 1

Klausimas #60

***Sujunkite atsinaujinančios energijos rūšis su jų skaičiais paveiksle.



- | | |
|-----------|---------------------------------------|
| 1 1 - ... | <u>3</u> ... Biomasė ir atliekos |
| 2 2 - ... | <u>6</u> ... Potvynių, bangų energija |
| 3 3 - ... | <u>1</u> ... Vėjo energija |
| 4 4 - ... | <u>2</u> ... Hidroenergija |
| 5 5 - ... | <u>4</u> ... Saulės energija |
| 6 6 - ... | <u>5</u> ... Žemės gelmių energija |

Taškų skaičius už teisingą atsakymą: 5

Klausimas #61

****Kur surenkami keleiviniai lėktuvai A380?**

- Jungtinėje Karalystėje, Londone
- Prancūzijoje, Tulūzoje
- Vokietijoje, Frankfurte prie Maino
- Italijoje, Milane

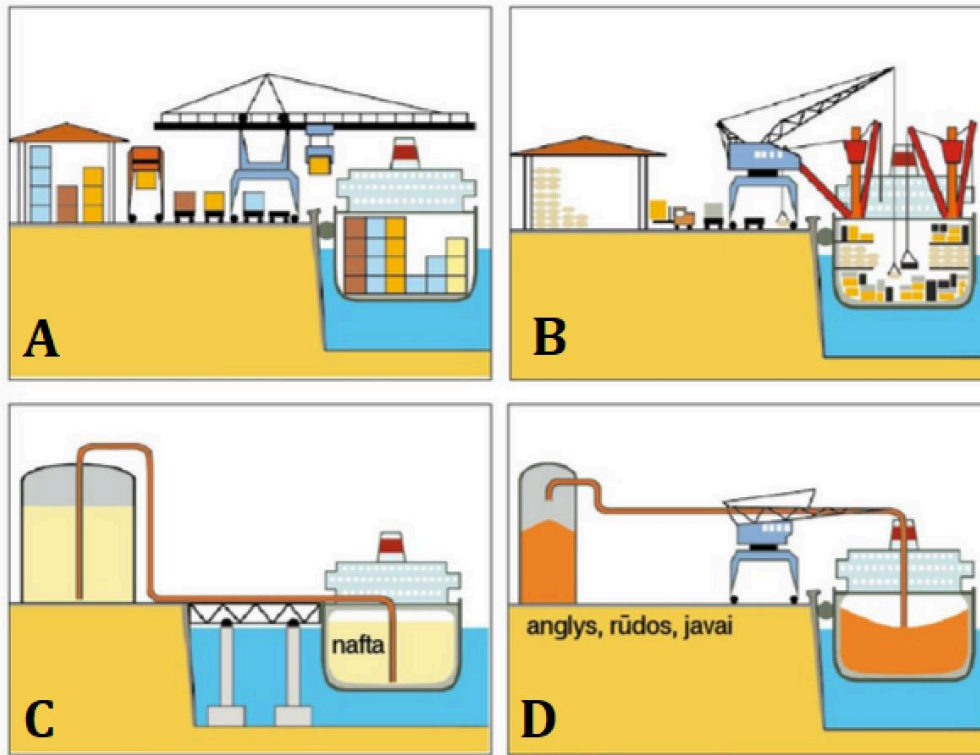
*Taškų skaičius už teisingą atsakymą: 1***Klausimas #62**

*****Lankomiausiems Pietų Europos objektams parinkite miestus, kuriuose juos galima pamatyti.**

- | | |
|-------------------------------|------------------------|
| 1 Šv. Šeimynos bažnyčia - ... | <u>3</u> ... Roma |
| 2 Alhambros rūmai - ... | <u>4</u> ... Stambulas |
| 3 Koliziejus - ... | <u>2</u> ... Granada |
| 4 Hadžia Sofija mečetė - ... | <u>1</u> ... Barselona |
| 5 Akropolis - ... | <u>5</u> ... Atėnai |
| 6 Luvras - ... | <u>6</u> ... Paryžius |

*Taškų skaičius už teisingą atsakymą: 5***Klausimas #63**

***Kuriame paveikslėlyje parodytas konteinerių terminalas?**

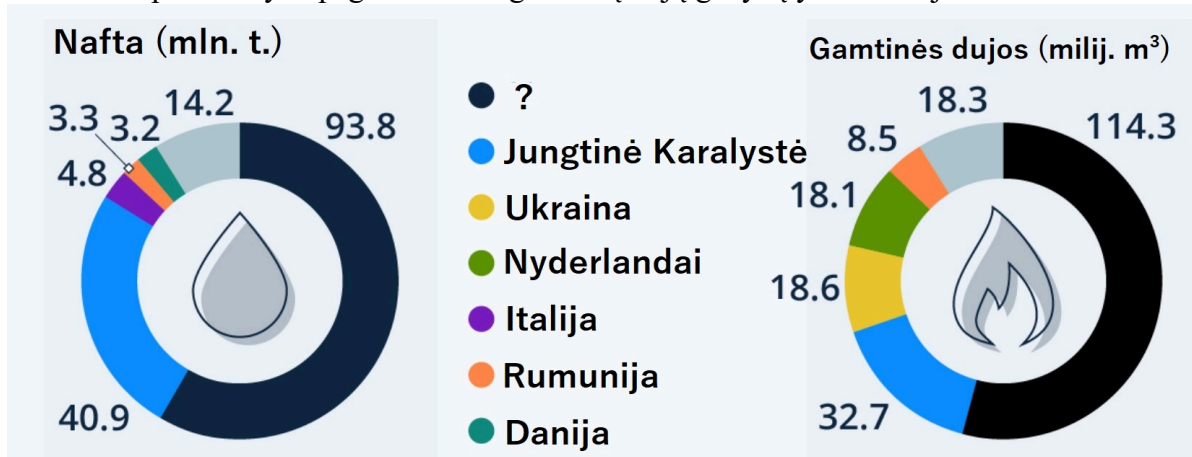


- A
- B
- D
- C

Taškų skaičius už teisingą atsakymą: 1

Klausimas #64

*Kuri Europos valstybė pagal naftos ir gamtinių dujų gavybą yra 1 vietoje?



- Norvegija
- Ispanija
- Vokietija
- Rumunija

Taškų skaičius už teisingą atsakymą: 1

Klausimas #65

***Pažymėkite dvi valstybes, kurių BVP 1 gyv. yra didesnis už Lietuvos.

- Kroatija
- Latvija
- Graikija
- Austrija
- Lenkija
- Nyderlandai

Taškų skaičius už teisingą atsakymą: 2

Klausimas #66

Pažymėkite masinio turizmo keliamas problemas.

- Vietos gyventojai įtraukiami į turizmo verslą
- Išaugusios regiono gyventojų pajamos
- Laikinas darbas tik turizmo sezono metu
- Vandens tiekimas ir nuotekų valymas
- Automobilių eismo spūstys, triukšmas, tarša
- Atvykstantys turistai trikdo vietos gyventojų kasdienybę

Taškų skaičius už teisingą atsakymą: 4

Klausimas #67

**Kuris būdas naftos ir gamtinių dujų gabenimui yra patogiausias?



- Geležinkelio sistemos
- Automobilių sistemos
- Tanklaiviai
- Vamzdynai

Taškų skaičius už teisingą atsakymą: 1

Klausimas #68

*Kuriame mieste yra ilgai statoma ir vis dar nebaigta Šventosios Šeimynos bažnyčia?



- Romoje
- Madride
- Barselonoje
- Paryžiuje

Taškų skaičius už teisingą atsakymą: 1

Klausimas #69

*Kaip Ispanijoje vadinama drėkinamoji sritis?

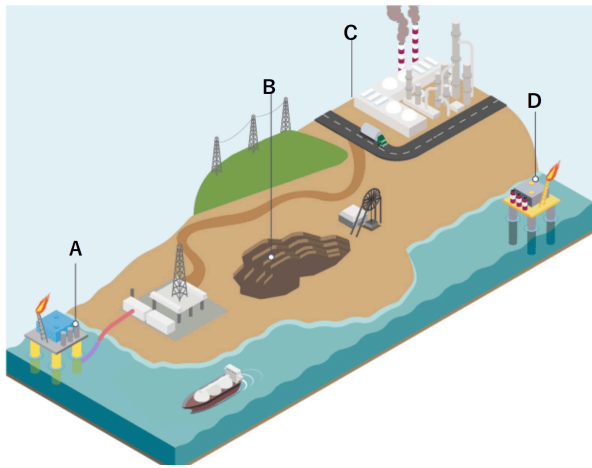


- Kanalai
- Užtvanka
- Tvanas
- Huerta

Taškų skaičius už teisingą atsakymą: 1

Klausimas #70

*Kuris paveiksle parodytas gavybos būdas yra tinkamas akmens anglims išgauti?



- A
 D
 C
 B

Taškų skaičius už teisingą atsakymą: 1

Klausimas #71

****Pažymėkite šalis, kurios Europoje pagal atvykstančių turistų skaičių patenka į TOP 5.**

- Lenkija
 Suomija
 Rusija
 Ispanija
 Graikija
 Prancūzija

Taškų skaičius už teisingą atsakymą: 3

Klausimas #72

***Kaip vadinamas žuvų auginimas netoli kranto panardintuose narvuose?**



- Planktonas
 Akvakultūra
 Veisimas
 Įžuvinimas

Taškų skaičius už teisingą atsakymą: 1

Klausimas #73

****Apie kokį miestą čia rašoma?**

Šio miesto pavadinimas yra toks pat, kaip ir ežero, prie kurio jis įsikūręs. Tai žymus miestas, dar vadinamas „tarptautine sostine“, „pasauliniu miestu“, nes jame įsikūrę Jungtinių Tautų organizacija, Europos ekonomikos komisija, Tarptautinis raudonasis kryžius bei dar apie 200 įvairių organizacijų būstinių.



- Bernas
- Ženeva
- Marselis
- Budapeštas

Taškų skaičius už teisingą atsakymą: 1

Klausimas #74

Kurios rūšies energiją naudoja ši interneto stotelė?



- Saulės
- Vandens
- Biokuro
- Vėjo

Taškų skaičius už teisingą atsakymą: 1

Klausimas #75

****Kurios sąlygos skatina masinio turizmo atsiradimą?**

- Gausu lankomų objektų ir pramogų už kuo mažesnę kainą
- Išvystytas dviračių takų tinklas
- Daug maitinimo vietų, kurios pritaikytos prie turistų poreikių
- Daugybę viešbučių ir pramogų vietų
- Saugomų teritorijų steigimas
- Švarus oras, vanduo ir daug žalumos

Taškų skaičius už teisingą atsakymą: 3

Klausimas #76

*****Teisingai parinkite šalių elektros energijos gamybos ypatumus.**

- | | |
|---------------------|--|
| 1 Norvegijoje - ... | <u>2</u> ... 83% elektros pagaminama šiluminėse elektrinėse |
| 2 Danijoje- ... | <u>4</u> ... visa elektra pagaminama iš atsinaujinančių šaltinių |
| 3 Švedijoje - ... | <u>3</u> ... 43% elektros pagaminama branduolinėse jėgainėse |
| 4 Islandija - ... | <u>1</u> ... 98% elektros energijos pagaminama hidroelektrinėse |

Taškų skaičius už teisingą atsakymą: 3

Klausimas #77

****Kuris Čekijos miestas garsus aludaryste ir automobilių pramone?**



- Brno
- Praha
- Pilzenas
- Liberecas

Taškų skaičius už teisingą atsakymą: 1

Klausimas #78

****Pažymėkite šalis, kurios patenka tarp 10 turtingiausių Europos valstybių.**

- Šveicarija
- Liuksemburgas
- Moldova
- Ukraina
- Norvegija
- Kosovas

Taškų skaičius už teisingą atsakymą: 3

Klausimas #79

*****Kodėl medienos apdirbimo įmonės Suomijoje įkurtos vietose, kur upės įteka į Baltijos jūrą?**



- Medieną atplukdoma upėmis
- Dėl gražaus kraštovaizdžio
- Importuojama medienos žaliava
- Vanduo reikalingas gaisrams gesinti
- Patogu eksportuoti medienos gaminius

Taškų skaičius už teisingą atsakymą: 2

Klausimas #80

****Koks yra pagrindinis Europos Sąjungos solidarumo politikos tikslas?**

- Mažinti ekonominius ir socialinius skirtumus tarp valstybių
- Skatinti pasiturinčius žmones mokėti didesnius mokesčius
- Visiems nepasiturintiems teikti nemokamas paslaugas
- Suvienodinti Europos žmonių gyvenimo būdą

Taškų skaičius už teisingą atsakymą: 1