


## 7 klasė. Globalizacija ir darnusis vystymasis. LGMA

Vardas, pavardė: \_\_\_\_\_ Klasė: \_\_\_\_\_ Data: \_\_\_\_\_

### Klausimas #1

\* Kokių problemų Afrikos gyventojams sukelia nešvaraus vandens vartojimas maistui?



- Vandenyje atsiranda žuvis, kurios netinkamos žmonių maistui
- Užterštas vanduo greičiau išgaruoja
- Trūksta vandens laukams ir daržams laistyti
- Plinta užkrečiamosios ligos

Taškų skaičius už teisingą atsakymą: 1 Surinkta taškų: \_\_\_\_\_

### Klausimas #2

\*\* Kurios religijos išpažinėjo nėra šiame paveiksle?



- Budisto
- Judaisto

- Musulmono
- Hinduisto

Taškų skaičius už teisingą atsakymą: 1 Surinkta taškų: \_\_\_\_\_

### Klausimas #3

\*\*\* Ką šioje karikatūroje vaizduoja žmonių minia?



- Pasipriešinimą globalizacijai
- Integracijos džiaugsmą
- Pabėgėlius
- Demografinį sprogimą

Taškų skaičius už teisingą atsakymą: 1 Surinkta taškų: \_\_\_\_\_

### Klausimas #4

\*\*\* Kai kalbame apie skirtingas tautas, labai dažnai pirmiausia prieš akis iškyla jų maldos namų vaizdinys. Kaip vadinasi maldos namai, kuriuose meldžiasi nuotraukoje matomi žmonės?




- Pagoda
- Mečetė
- Sinagoga
- Cerkvė

Taškų skaičius už teisingą atsakymą: 1 Surinkta taškų: \_\_\_\_\_

### Klausimas #5

Kokia problema parodyta paveiksle, su kuria susiduria daugelis Afrikos ir Azijos valstybių?



- Trūksta švaraus, tinkamo maistui vandens
- Žmonės skalbia rūbus upėje
- Vanduo teka per arti namų
- Visos upių pakrantės yra apgyvendintos

Taškų skaičius už teisingą atsakymą: 1 Surinkta taškų: \_\_\_\_\_

#### Klausimas #6

\*\* Kuris miestas yra trijų pasaulio religijų centras?



- Kairas
- Jeruzalė
- Roma
- Stambulas

Taškų skaičius už teisingą atsakymą: 1 Surinkta taškų: \_\_\_\_\_

#### Klausimas #7

\*\* Tai G7 viršūnių susitikimo metu surengta demonstracija. Kaip vadinamas toks pasipriešinimo judėjimas?

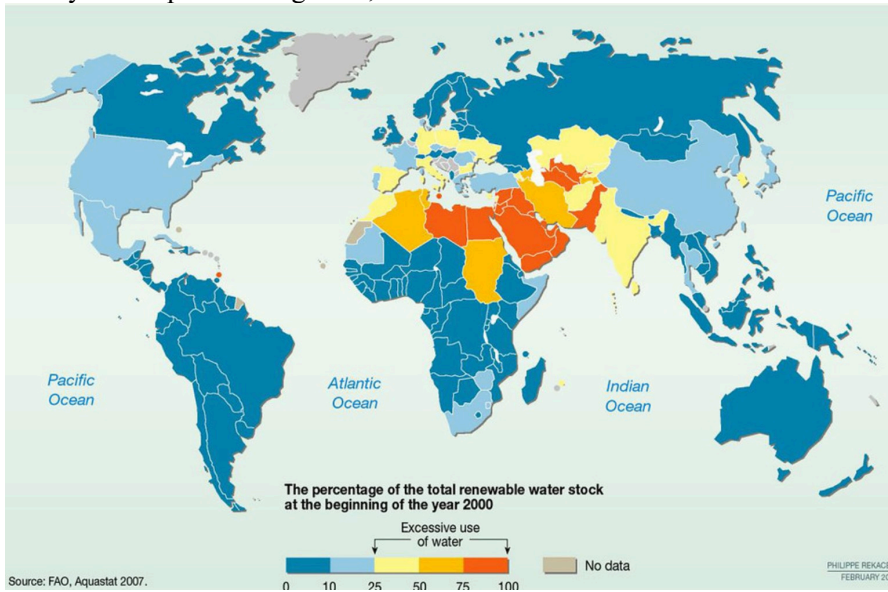


- Antiglobalizacija
- Amerikanizacija
- Globalizacija
- Žmogaus teisės

Taškų skaičius už teisingą atsakymą: 1 Surinkta taškų: \_\_\_\_\_

#### Klausimas #8

\* Pažymėkite pasaulio regionus, kurie susiduria su didžiausiu vandens trūkumu.



- Šiaurės Amerika
- Pietryčių Azija
- Centrinė Afrika
- Šiaurės Afrika
- Pietvakarių Azija
- Pietų Amerika

Taškų skaičius už teisingą atsakymą: 2 Surinkta taškų: \_\_\_\_\_

#### Klausimas #9

\* Kuriuose regionuose dėl miškų kirtimo aplinkos naikinimas yra itin didelio masto.

- Rytų Azijoje ir Vakarų Europoje
- Centrinėje Afrikoje ir Australijoje
- Pietų Amerikoje ir Pietryčių Azijoje
- Šiaurės Amerikoje ir Pietų Amerikoje

Taškų skaičius už teisingą atsakymą: 1 Surinkta taškų: \_\_\_\_\_

#### Klausimas #10



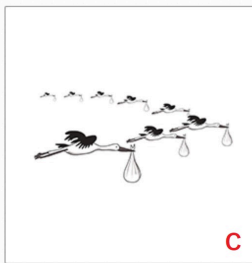

**\*\* Pažymėkite, kurie teiginiai apie religijas yra teisingi.**

1. Religija turi įtakos gyventojų tankiui.  taip  ne
2. Kiekviena religija turi savo taisykles ir reikalavimus.  taip  ne
3. Religija turi įtakos maitinimosi ypatybėms.  taip  ne
4. Visose pasaulio religijose žmonės tiki į tą patį dievą.  taip  ne
5. Religija turi įtakos šventėms ir festivaliams.  taip  ne
6. Religija daro didelę įtaką politinio žemėlapiu kaitai.  taip  ne
7. Visų pasaulio religijų išpažinėjai švenčia šv. Kalėdas.  taip  ne
8. Religija neturi įtakos šalies ekonomikos augimui.  taip  ne

Taškų skaičius už teisingą atsakymą: 4 Surinkta taškų: \_\_\_\_\_

### Klausimas #11

**\*\* Paveiksluose vaizduojamas visuotines problemas sujunkite su jų pavadinimais.**



- 1 A - ... \_\_\_\_\_ ... Išteklų švaistymas
- 2 B - ... \_\_\_\_\_ ... Gyventojų skaičiaus augimas
- 3 C - ... \_\_\_\_\_ ... Klimato kaita
- 4 D - ... \_\_\_\_\_ ... Aplinkos naikinimas

Taškų skaičius už teisingą atsakymą: 3 Surinkta taškų: \_\_\_\_\_

### Klausimas #12

**\* Kokiais vienetais yra matuojamas ekologinis pėdsakas?**



- Miškingais hektarais
- Užteršto ploto metrais
- Globaliaisiais hektarais
- Gyvenamojo plota kvadratiniais metrais

**Klausimas #13**

\*\* Surikiuokite religijas nuo daugiausiai turinčios išpažinėjų iki mažiausiai.

- \_\_\_ Krikščionybė
- \_\_\_ Judaizmas
- \_\_\_ Budizmas
- \_\_\_ Islamas
- \_\_\_ Hinduizmas

Taškų skaičius už teisingą atsakymą: 4 Surinkta taškų: \_\_\_\_\_

**Klausimas #14**

\* Priskirkite žemynams nykstančius arba dėl tam tikros naudos medžiojamus gyvūnus.



- 1 A - ... \_\_\_ ... Pietų Amerika
- 2 B - ... \_\_\_ ... Afrika
- 3 C - ... \_\_\_ ... Šiaurės Amerika
- 4 D - ... \_\_\_ ... Azija
- 5 E - ... \_\_\_ ... Australija

Taškų skaičius už teisingą atsakymą: 4 Surinkta taškų: \_\_\_\_\_

**Klausimas #15**

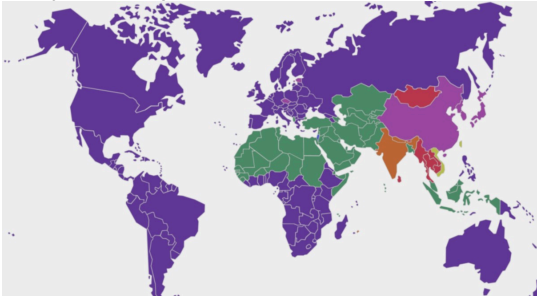
\*\* Kuriai religijai būdingi nuotraukoje matomi maldos namai?



- Krikščionybei
- Budizmui
- Induizmui
- Islamui

**Klausimas #16**

\* Ką vaizduoja šis pasaulio žemėlapis?



- Religijų paplitimą
- Šalių gyvenimo lygį
- Didžiausių kalbų paplitimą
- Gyventojų pasiskirstymą pagal odos spalvą

Taškų skaičius už teisingą atsakymą: 1 Surinkta taškų: \_\_\_\_\_

**Klausimas #17**

\*\* Kokios priemonės padėtų spręsti visuotines problemas?

- Sukurti tarptautinę problemų prognozavimo ir informacijos dalijimosi sistemą
- Iširti problemų priežastis ir sąlygas
- Mažiau keliauti ir mažiau kirsti kitų valstybių sienas
- Kiekviena valstybė turi susitvarkyti šalies viduje
- Užmegzti visų valstybių bendradarbiavimą
- Stiprios šalys turi atsisakyti didesnės gerovės

Taškų skaičius už teisingą atsakymą: 3 Surinkta taškų: \_\_\_\_\_

**Klausimas #18**

Pažymėkite veiklas, kurios prisideda prie ekologinio pėdsako didinimo.



- Persikraustymas į didesnį namą, kur kiekvienas šeimos narys turės atskirą kambarį
- Važiavimas dviračiu
- Saulės baterijų naudojimas
- Didesnis elektros sunaudojimas
- Važiavimas visuomeniniu transportu
- Kelionė į JAV

Taškų skaičius už teisingą atsakymą: 3 Surinkta taškų: \_\_\_\_\_

**Klausimas #19**





\*\* Kurios religijos išplitimas žemėlapyje vaizduojamas geltona spalva?



- Krikščionybės
- Induizmo
- Budizmo
- Islamo

Taškų skaičius už teisingą atsakymą: 1 Surinkta taškų: \_\_\_\_\_

#### Klausimas #23

\*\* Kuri iš visuotinių problemų grupių pavaizduota paveiksle?



- Ekologinės problemos
- Socialinės problemos
- Ekonominės problemos
- Demografinės problemos

Taškų skaičius už teisingą atsakymą: 1 Surinkta taškų: \_\_\_\_\_

#### Klausimas #24

Kuri pasaulio valstybė labiausiai lemia makdonaldizacijos reiškinius?



- Australija
- Kanada
- Didžioji Britanija
- JAV

Taškų skaičius už teisingą atsakymą: 1 Surinkta taškų: \_\_\_\_\_

#### Klausimas #25

---

\*\* Kokį procesą rodo šis ženklas?



- Globalines problemas, iš kurių bioįvairovės nykimas yra svarbiausia
- Pabėgėlius, kurie atkeliauja sausuma
- Migraciją dėl gamtinių priežasčių
- Žmonių veiklos paliekamą ekologinį pėdsaką

Taškų skaičius už teisingą atsakymą: 1 Surinkta taškų: \_\_\_\_\_

#### Klausimas #26

---

\*\* Šis rodiklis rodo, koks žemės plotas reikalingas žmogaus gyvenimo gerovei užtikrinti. Kaip jis vadinamas?

- BVP/1 gyv.
- Eksportas
- BVP
- Ekologinis pėdsakas

Taškų skaičius už teisingą atsakymą: 1 Surinkta taškų: \_\_\_\_\_

#### Klausimas #27

---

\*\* Kurios priežastys dar labiau didina vandens trūkumą Afrikos šalyse?

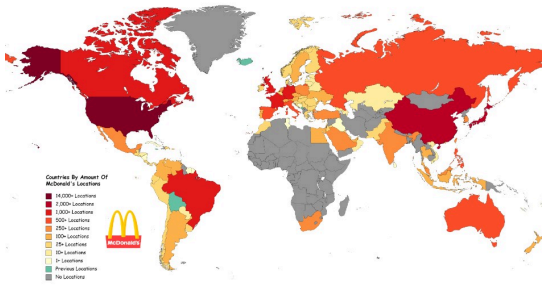


- Drėgnasis ir sausasis laikotarpiai
- Nevienodas vandens pasiskirstymas
- Didėjantis gyventojų skaičius
- Dykumėjimas
- Augantis šiukšlių kiekis

Taškų skaičius už teisingą atsakymą: 2 Surinkta taškų: \_\_\_\_\_

#### Klausimas #28

\* Koks reiškinys lėmė, kad „McDonlad's" restoranų yra jau daugiau kaip 100 pasaulio valstybių.



- Skaitmeninė takoskyra
- Hinduizmas
- Europos Sąjunga
- Globalizacija

Taškų skaičius už teisingą atsakymą: 1 Surinkta taškų: \_\_\_\_\_

#### Klausimas #29

\*\*\* Pažymėkite, kurie teiginiai pateikia teisingą informaciją apie globalizacijos privalumus.

1. Bendrai reguliuojamas gyventojų skaičiaus mažėjimas.  taip  ne
2. Vyksta gyvenimo būdo supanašėjimas.  taip  ne
3. Galimybė prisidėti prie visuotinių problemų sprendimo.  taip  ne
4. Galimybė savo prekes parduoti visame pasaulyje.  taip  ne
5. Galimybė keliauti į įvairias pasaulio šalis.  taip  ne
6. Didesni pabėgėlių srautai.  taip  ne
7. Galimybė kuo daugiau prekių pasigaminti savo šalyje.  taip  ne
8. Galimybė greitai gauti informaciją iš viso pasaulio.  taip  ne

Taškų skaičius už teisingą atsakymą: 4 Surinkta taškų: \_\_\_\_\_

#### Klausimas #30

\*\*Pažymėkite atsakymus, kurie rodo ekologines problemas.

- Miškų kirtimas
- Migracija
- Klimato šiltėjimas
- Kainų didėjimas
- Biologinės įvairovės nykimas
- Atmosferos tarša

Taškų skaičius už teisingą atsakymą: 4 Surinkta taškų: \_\_\_\_\_

#### Klausimas #31

\* Atpažinkite vaizdus, kurie vaizduoja globalizaciją.



- 2 ir 4  
 1 ir 2  
 2 ir 3  
 3 ir 4

Taškų skaičius už teisingą atsakymą: 1 Surinkta taškų: \_\_\_\_\_

### Klausimas #32

\* Kurios organizacijos yra šis ženklas?



- Vaikų olimpinės žaidynių  
 UNESCO  
 Jungtinės Tautų  
 Sąžiningos prekybos

Taškų skaičius už teisingą atsakymą: 1 Surinkta taškų: \_\_\_\_\_

### Klausimas #33

\*\* Nuotraukoje užfiksuotas karjeras, kuriame kasama žaliava svarbiam metalui išgauti. Koks tai metalas, kuris naudojamas tavo mobiliajame telefone korpuso dalims ir akumuliatoriams gaminti?





- Kobaltas
- Aliuminis
- Sidabras
- Varis

Taškų skaičius už teisingą atsakymą: 1 Surinkta taškų: \_\_\_\_\_

#### Klausimas #34

\*\* Kiek vidutiniškai medžiagų sudaro tavo mobilųjį telefoną?



- 342
- 14
- 46
- 189

Taškų skaičius už teisingą atsakymą: 1 Surinkta taškų: \_\_\_\_\_

#### Klausimas #35

Kuriai globalizacijos sričiai priklauso televizija?

- Politikos globalizacijai
- Ekonominei globalizacijai
- Komunikacijų globalizacijai
- Finansų globalizacijai

Taškų skaičius už teisingą atsakymą: 1 Surinkta taškų: \_\_\_\_\_

#### Klausimas #36

\*\* Šią plačiausiai pasaulyje paplitusią religiją išpažįsta maždaug 2 mlrd. žmonių. Kuri tai religija?

- Judaizmas
- Islamas
- Hinduizmas
- Budizmas
- Krikščionybė

Taškų skaičius už teisingą atsakymą: 1 Surinkta taškų: \_\_\_\_\_

#### Klausimas #37

\*\*\* Pažymėkite šalis, kurių ekologinis pėdsakas yra didesnis už Lietuvos.



- Vokietija
- Kataras
- Tailandas
- Sudanas
- Argentina
- JAV

Taškų skaičius už teisingą atsakymą: 3 Surinkta taškų: \_\_\_\_\_

#### Klausimas #38

\* Kurios veiklos padės ženkliai sumažinti tavo ekologinį pėdsaką?



- Ilgesnis pamokų ruošimas
- Technologijų atsinaujinimas
- Vandens taupymas, kol valaisi dantis
- Važiavimas į mokyklą dviračiu ar paspirtuku
- Rūšiavimas
- Naujų rūbų pirkimas

Taškų skaičius už teisingą atsakymą: 3 Surinkta taškų: \_\_\_\_\_

#### Klausimas #39

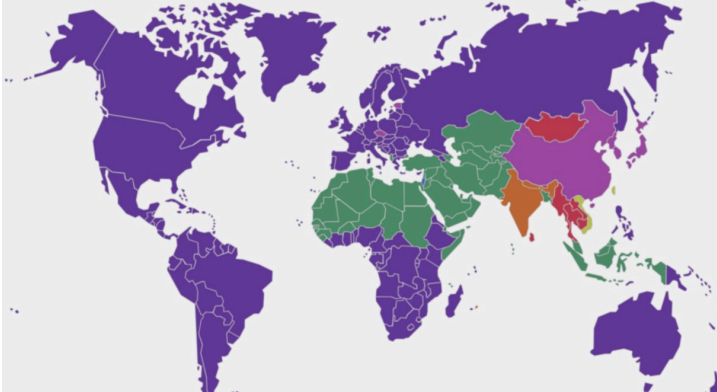
\* Pažymėkite visuotines gamtines problemas.

- Klimato kaita
- Migracija ir pabėgėliai
- Energijos švaistymas
- Karai ir konfliktai
- Gyventojų skaičiaus augimas
- Biologinės įvairovės nykimas

Taškų skaičius už teisingą atsakymą: 2 Surinkta taškų: \_\_\_\_\_

#### Klausimas #40

\*\*\* Pažymėkite šalis, kuriose didžioji dalis gyventojų yra krikščionys.



- Madagaskaras
- Marokas
- Malis
- Meksika
- Mongolija
- Australija

Taškų skaičius už teisingą atsakymą: 3 Surinkta taškų: \_\_\_\_\_

#### Klausimas #41

\*\* Pažymėkite teiginius, kurie susiję su globalizacija.

- Procesai, vykstantys šalies viduje
- Visas žmonių gyvenimo sritis apimantis vienodėjimas
- Tradicijų pristatymas pasauliui
- Procesai, vykstantys pasauliniu mastu
- Šalies ekonomikos augimas

Taškų skaičius už teisingą atsakymą: 2 Surinkta taškų: \_\_\_\_\_

#### Klausimas #42

\* Kurios religijos išpažinėjai privalo bent kartą gyvenime aplankyti šventuosius Mekos ir Medinos miestus?



- Islamo
- Budizmo
- Krikščionybė
- Hinduizmo

Taškų skaičius už teisingą atsakymą: 1 Surinkta taškų: \_\_\_\_\_

#### Klausimas #43

\*\* Pažymėkite tas visuotines problemas, kurios vienaip ar kitaip veikia Lietuvą.

- Švaraus vandens stygius
- Aplinkos naikinimas
- Karai ir terorizmas
- Gyventojų skaičiaus augimas
- Migracija ir pabėgėliai
- Klimato kaita

Taškų skaičius už teisingą atsakymą: 4 Surinkta taškų: \_\_\_\_\_

#### Klausimas #44

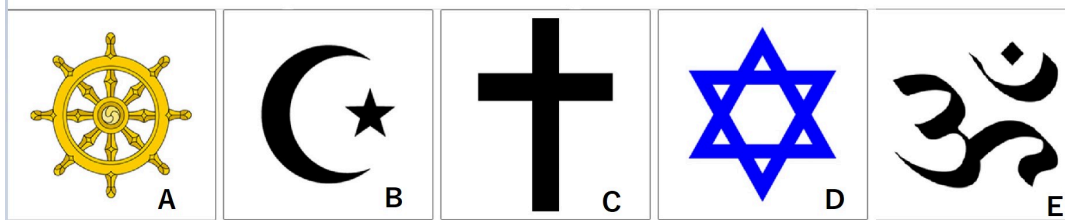
\*Parinkite teisingus atsakymus.

\_\_\_\_\_ - katalikų sostinė, mažiausia pasaulio valstybė, kuri yra įsikūrusi \_\_\_\_\_ miesto centre. Aukščiausias katalikų vadovas yra \_\_\_\_\_. Katalikai tiki į \_\_\_\_\_.

Taškų skaičius už teisingą atsakymą: 4 Surinkta taškų: \_\_\_\_\_

#### Klausimas #45

\*\* Sujunkite religijas su jų simboliais.



- 1 A - ... \_\_\_\_\_ ... Krikščionybė
- 2 B - ... \_\_\_\_\_ ... Islamas
- 3 C - ... \_\_\_\_\_ ... Budizmas
- 4 D - ... \_\_\_\_\_ ... Hinduizmas
- 5 E - ... \_\_\_\_\_ ... Judaizmas

Taškų skaičius už teisingą atsakymą: 4 Surinkta taškų: \_\_\_\_\_

#### Klausimas #46

\*\* Kurios religijos maldos namai matomi nuotraukoje?





- Krikščionybės
- Judaizmo
- Islamo
- Budizmo
- Hinduizmo

Taškų skaičius už teisingą atsakymą: 1 Surinkta taškų: \_\_\_\_\_

#### Klausimas #47

---

\*\*\* Surikiuokite eilės tvarka globalines problemas nuo tos, kuri pastūmėja ir didina kitas globalines problemas.

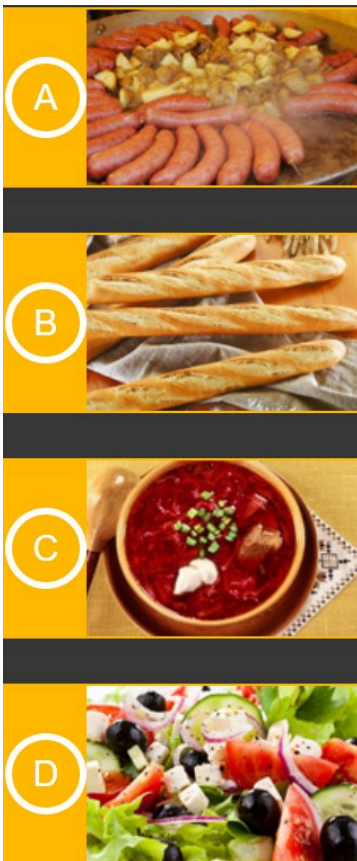
- \_\_\_ Dykumėjimas
- \_\_\_ Augantis vartojimas
- \_\_\_ Migracija
- \_\_\_ Badas ir skurdas
- \_\_\_ Miškų kirtimas
- \_\_\_ Gyventojų skaičiaus augimas

Taškų skaičius už teisingą atsakymą: 5 Surinkta taškų: \_\_\_\_\_

#### Klausimas #48

---

\*\* Su kuriomis valstybėmis susiję šis ir lietuviams gerai žinomas maistas?



- 1 A - ... \_\_\_\_\_ ... Graikija  
 2 B - ... \_\_\_\_\_ ... Prancūzija  
 3 C - ... \_\_\_\_\_ ... Vokietija  
 4 D - ... \_\_\_\_\_ ... Ukraina

Taškų skaičius už teisingą atsakymą: 3 Surinkta taškų: \_\_\_\_\_

#### Klausimas #49

\*\*\*Kurie teiginiai apie globalizaciją yra teisingi, o kurie - ne?

1. Penkto Pietų vandenyno išskyrimas taip pat yra globalizacijos rezultatas.  taip  ne  
 2. JAV prezidento rinkimų rezultatai turės tiesioginės įtakos Lietuvos ekonomikai.  taip  ne  
 3. Dezinformacija įvairiose žiniasklaidos priemonėse nėra didelė problema visuomeni.  taip  ne  
 4. Internetas pasaulyje atsirado ir tapo prieinamas XX a. viduryje.  taip  ne  
 5. Sąžiningos prekybos ženklų žymimos tokios prekės, už kurių pardavimą didžiausią naudą gauna pardavėjai.  taip  ne  
 6. Labiausiai globalizaciją skatina įvairios ryšio priemonės ir transportas.  taip  ne


Taškų skaičius už teisingą atsakymą: 3 Surinkta taškų: \_\_\_\_\_

Maksimalus taškų skaičius: 100 Surinkta taškų: \_\_\_\_\_ Pažymys: \_\_\_\_\_

## 7 klasė. Globalizacija ir darnusis vystymasis. LGMA - ATSAKYMAI

### Klausimas #1

\* Kokių problemų Afrikos gyventojams sukelia nešvaraus vandens vartojimas maistui?



- Vandenyje atsiranda žuvis, kurios netinkamos žmonių maistui
- Užterštas vanduo greičiau išgaruoja
- Trūksta vandens laukams ir daržams laistyti
- Plinta užkrečiamosios ligos

Taškų skaičius už teisingą atsakymą: 1

### Klausimas #2

\*\* Kurios religijos išpažinėjo nėra šiame paveiksle?



- Budisto
- Judaisto

- Musulmono
- Hinduisto

Taškų skaičius už teisingą atsakymą: 1

### Klausimas #3

\*\*\* Ką šioje karikatūroje vaizduoja žmonių minia?



- Pasipriešinimą globalizacijai
- Integracijos džiaugsmą
- Pabėgėlius
- Demografinį sprogimą

Taškų skaičius už teisingą atsakymą: 1

### Klausimas #4

\*\*\* Kai kalbame apie skirtingas tautas, labai dažnai pirmiausia prieš akis iškyla jų maldos namų vaizdinys. Kaip vadinasi maldos namai, kuriuose meldžiasi nuotraukoje matomi žmonės?




- Pagoda
- Mečetė
- Sinagoga
- Cerkvė

Taškų skaičius už teisingą atsakymą: 1

### Klausimas #5

Kokia problema parodyta paveiksle, su kuria susiduria daugelis Afrikos ir Azijos valstybių?





- Trūksta švaraus, tinkamo maistui vandens
- Žmonės skalbia rūbus upėje
- Vanduo teka per arti namų
- Visos upių pakrantės yra apgyvendintos

Taškų skaičius už teisingą atsakymą: 1

#### Klausimas #6

\*\* Kuris miestas yra trijų pasaulio religijų centras?



- Kairas
- Jeruzalė
- Roma
- Stambulas

Taškų skaičius už teisingą atsakymą: 1

#### Klausimas #7

\*\* Tai G7 viršūnių susitikimo metu surengta demonstracija. Kaip vadinamas toks pasipriešinimo judėjimas?

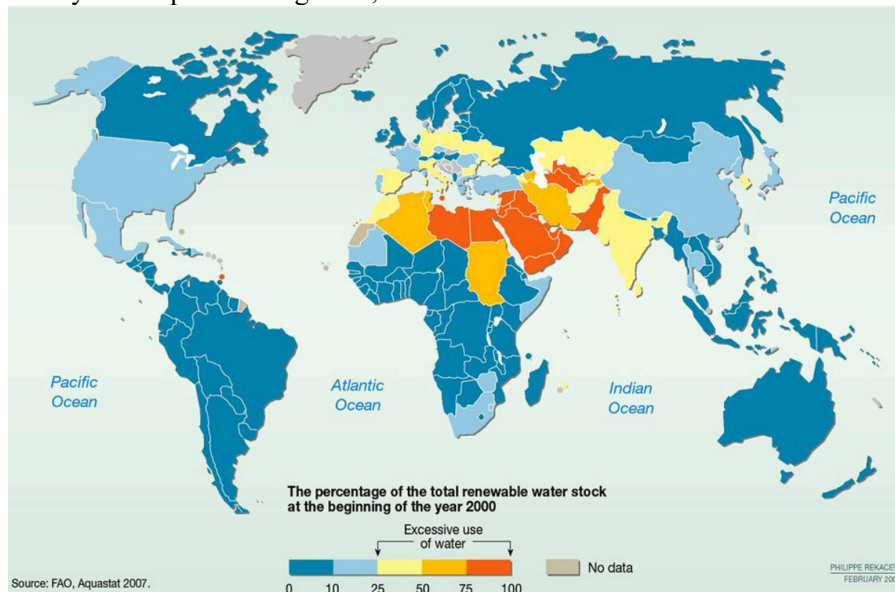


- Antiglobalizacija
- Amerikanizacija
- Globalizacija
- Žmogaus teisės

Taškų skaičius už teisingą atsakymą: 1

#### Klausimas #8

\* Pažymėkite pasaulio regionus, kurie susiduria su didžiausiu vandens trūkumu.



- Šiaurės Amerika
- Pietryčių Azija
- Centrinė Afrika
- Šiaurės Afrika
- Pietvakarių Azija
- Pietų Amerika

Taškų skaičius už teisingą atsakymą: 2

#### Klausimas #9

\* Kuriuose regionuose dėl miškų kirtimo aplinkos naikinimas yra itin didelio masto.

- Rytų Azijoje ir Vakarų Europoje
- Centrinėje Afrikoje ir Australijoje
- Pietų Amerikoje ir Pietryčių Azijoje
- Šiaurės Amerikoje ir Pietų Amerikoje

Taškų skaičius už teisingą atsakymą: 1

#### Klausimas #10


\*\* Pažymėkite, kurie teiginiai apie religijas yra teisingi.

1. Religija turi įtakos gyventojų tankiui.  taip  ne
2. Kiekviena religija turi savo taisykles ir reikalavimus.  taip  ne
3. Religija turi įtakos maitinimosi ypatybėms.  taip  ne
4. Visose pasaulio religijose žmonės tiki į tą patį dievą.  taip  ne
5. Religija turi įtakos šventėms ir festivaliams.  taip  ne
6. Religija daro didelę įtaką politinio žemėlapių kaitai.  taip  ne
7. Visų pasaulio religijų išpažinėjai švenčia šv. Kalėdas.  taip  ne
8. Religija neturi įtakos šalies ekonomikos augimui.  taip  ne

Taškų skaičius už teisingą atsakymą: 4

#### Klausimas #11

\*\* Paveiksluose vaizduojamas visuotines problemas sujunkite su jų pavadinimais.



- |           |  |
|-----------|--|
| 1 A - ... | <u>4</u> ... Išteklų švaistymas          |
| 2 B - ... | <u>3</u> ... Gyventojų skaičiaus augimas |
| 3 C - ... | <u>1</u> ... Klimato kaita               |
| 4 D - ... | <u>2</u> ... Aplinkos naikinimas         |

Taškų skaičius už teisingą atsakymą: 3

#### Klausimas #12

\* Kokiais vienetais yra matuojamas ekologinis pėdsakas?



- Miškingais hektarais
- Užteršto ploto metrais
- Globaliaisiais hektarais
- Gyvenamojo plota kvadratiniais metrais

## Klausimas #13

\*\* Surikiuokite religijas nuo daugiausiai turinčios išpažinėjų iki mažiausiai.

- 1 Krikščionybė
- 5 Judaizmas
- 4 Budizmas
- 2 Islamas
- 3 Hinduizmas

Taškų skaičius už teisingą atsakymą: 4

## Klausimas #14

\* Priskirkite žemynams nykstančius arba dėl tam tikros naudos medžiojamus gyvūnus.



- 1 A - ... 3 ... Pietų Amerika
- 2 B - ... 1 ... Afrika
- 3 C - ... 2 ... Šiaurės Amerika
- 4 D - ... 4 ... Azija
- 5 E - ... 5 ... Australija

Taškų skaičius už teisingą atsakymą: 4

## Klausimas #15

\*\* Kuriai religijai būdingi nuotraukoje matomi maldos namai?



- Krikščionybei
- Budizmui

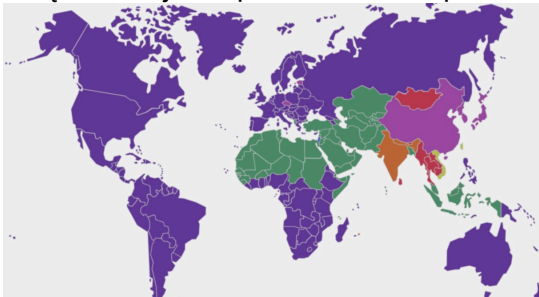


- Induizmui
- Islamui

Taškų skaičius už teisingą atsakymą: 1

#### Klausimas #16

\* Ką vaizduoja šis pasaulio žemėlapis?



- Religijų paplitimą
- Šalių gyvenimo lygį
- Didžiausių kalbų paplitimą
- Gyventojų pasiskirstymą pagal odos spalvą

Taškų skaičius už teisingą atsakymą: 1

#### Klausimas #17

\*\* Kokios priemonės padėtų spręsti visuotines problemas?

- Sukurti tarptautinę problemų prognozavimo ir informacijos dalijimosi sistemą
- Ištirti problemų priežastis ir sąlygas
- Mažiau keliauti ir mažiau kirsti kitų valstybių sienas
- Kiekviena valstybė turi susitvarkyti šalies viduje
- Užmegzti visų valstybių bendradarbiavimą
- Stiprios šalys turi atsisakyti didesnės gerovės

Taškų skaičius už teisingą atsakymą: 3

#### Klausimas #18

Pažymėkite veiklas, kurios prisideda prie ekologinio pėdsako didinimo.



- Persikraustymas į didesnį namą, kur kiekvienas šeimos narys turės atskirą kambarį
- Važiavimas dviračiu
- Saulės baterijų naudojimas
- Didelis elektros sunaudojimas
- Važiavimas visuomeniniu transportu
- Kelionė į JAV





\*\* Kurios religijos išplitimas žemėlapyje vaizduojamas geltona spalva?



- Krikščionybės
- Induizmo
- Budizmo
- Islamo

Taškų skaičius už teisingą atsakymą: 1

#### Klausimas #23

\*\* Kuri iš visuotinių problemų grupių pavaizduota paveiksle?



- Ekologinės problemos
- Socialinės problemos
- Ekonominės problemos
- Demografinės problemos

Taškų skaičius už teisingą atsakymą: 1

#### Klausimas #24

Kuri pasaulio valstybė labiausiai lemia makdonaldizacijos reiškinius?



- Australija
- Kanada
- Didžioji Britanija
- JAV

Taškų skaičius už teisingą atsakymą: 1

**Klausimas #25**

---

**\*\* Kokį procesą rodo šis ženklas?**



- Globalines problemas, iš kurių bioįvairovės nykimas yra svarbiausia
- Pabėgėlius, kurie atkeliauja sausuma
- Migraciją dėl gamtinių priežasčių
- Žmonių veiklos paliekamą ekologinį pėdsaką

Taškų skaičius už teisingą atsakymą: 1

**Klausimas #26**

---

**\*\* Šis rodiklis rodo, koks žemės plotas reikalingas žmogaus gyvenimo gerovei užtikrinti. Kaip jis vadinamas?**

- BVP/1 gyv.
- Eksportas
- BVP
- Ekologinis pėdsakas

Taškų skaičius už teisingą atsakymą: 1

**Klausimas #27**

---

**\*\* Kurios priežastys dar labiau didina vandens trūkumą Afrikos šalyse?**

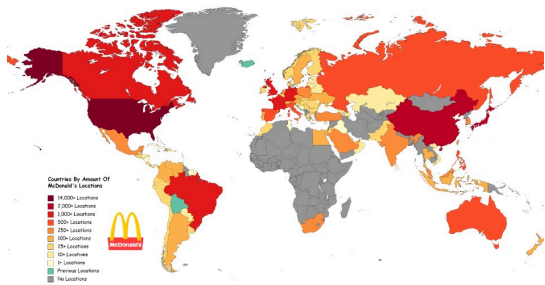


- Drėgnasis ir sausasis laikotarpiai
- Nevienodas vandens pasiskirstymas
- Didėjantis gyventojų skaičius
- Dykumėjimas
- Augantis šiukšlių kiekis

Taškų skaičius už teisingą atsakymą: 2

#### Klausimas #28

\* Koks reiškinys lėmė, kad „McDonlad's" restoranų yra jau daugiau kaip 100 pasaulio valstybių.



- Skaitmeninė takoskyra
- Hinduizmas
- Europos Sąjunga
- Globalizacija

Taškų skaičius už teisingą atsakymą: 1

#### Klausimas #29

\*\*\* Pažymėkite, kurie teiginiai pateikia teisingą informaciją apie globalizacijos privalumus.

1. Bendrai reguliuojamas gyventojų skaičiaus mažėjimas.  taip  ne
2. Vyksta gyvenimo būdo supanašėjimas.  taip  ne
3. Galimybė prisidėti prie visuotinių problemų sprendimo.  taip  ne
4. Galimybė savo prekes parduoti visame pasaulyje.  taip  ne
5. Galimybė keliauti į įvairias pasaulio šalis.  taip  ne
6. Didesni pabėgėlių srautai.  taip  ne
7. Galimybė kuo daugiau prekių pasigaminti savo šalyje.  taip  ne
8. Galimybė greitai gauti informaciją iš viso pasaulio.  taip  ne

Taškų skaičius už teisingą atsakymą: 4

#### Klausimas #30

\*\*Pažymėkite atsakymus, kurie rodo ekologines problemas.

- Miškų kirtimas
- Migracija
- Klimato šiltėjimas
- Kainų didėjimas
- Biologinės įvairovės nykimas
- Atmosferos tarša

Taškų skaičius už teisingą atsakymą: 4

#### Klausimas #31

\* Atpažinkite vaizdus, kurie vaizduoja globalizaciją.



- 2 ir 4  
 1 ir 2  
 2 ir 3  
 3 ir 4

Taškų skaičius už teisingą atsakymą: 1

#### Klausimas #32

\* Kurios organizacijos yra šis ženklas?



- Vaikų olimpinės žaidynių  
 UNESCO  
 Jungtinės Tautų  
 Sąžiningos prekybos

Taškų skaičius už teisingą atsakymą: 1

#### Klausimas #33

\*\* Nuotraukoje užfiksuotas karjeras, kuriame kasama žaliava svarbiam metalui išgauti. Koks tai metalas, kuris naudojamas tavo mobiliajame telefone korpuso dalims ir akumuliatoriams gaminti?





- Kobaltas  
 Aliuminis  
 Sidabras  
 Varis

Taškų skaičius už teisingą atsakymą: 1

#### Klausimas #34

\*\* Kiek vidutiniškai medžiagų sudaro tavo mobilųjį telefoną?



- 342  
 14  
 46  
 189

Taškų skaičius už teisingą atsakymą: 1

#### Klausimas #35

Kuriai globalizacijos sričiai priklauso televizija?

- Politikos globalizacijai  
 Ekonominei globalizacijai  
 Komunikacijų globalizacijai  
 Finansų globalizacijai

Taškų skaičius už teisingą atsakymą: 1

#### Klausimas #36

\*\* Šią plačiausiai pasaulyje paplitusią religiją išpažįsta maždaug 2 mlrd. žmonių. Kuri tai religija?

- Judaizmas
- Islamas
- Hinduizmas
- Budizmas
- Krikščionybė

Taškų skaičius už teisingą atsakymą: 1

#### Klausimas #37

\*\*\* Pažymėkite šalis, kurių ekologinis pėdsakas yra didesnis už Lietuvos.



- Vokietija
- Kataras
- Tailandas
- Sudanas
- Argentina
- JAV

Taškų skaičius už teisingą atsakymą: 3

#### Klausimas #38

\* Kurios veiklos padės ženkliai sumažinti tavo ekologinį pėdsaką?



- Ilgesnis pamokų ruošimas
- Technologijų atsinaujinimas
- Vandens taupymas, kol valaisi dantis
- Važiavimas į mokyklą dviračiu ar paspirtuku
- Rūšiavimas
- Naujų rūbų pirkimas

Taškų skaičius už teisingą atsakymą: 3

#### Klausimas #39

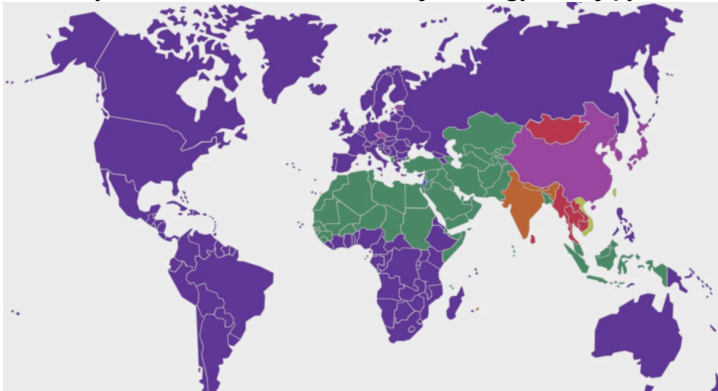
\* Pažymėkite visuotines gamtines problemas.

- Klimato kaita
- Migracija ir pabėgėliai
- Energijos švaistymas
- Karai ir konfliktai
- Gyventojų skaičiaus augimas
- Biologinės įvairovės nykimas

Taškų skaičius už teisingą atsakymą: 2

#### Klausimas #40

\*\*\* Pažymėkite šalis, kuriose didžioji dalis gyventojų yra krikščionys.



- Madagaskaras
- Marokas
- Malis
- Meksika
- Mongolija
- Australija

Taškų skaičius už teisingą atsakymą: 3

#### Klausimas #41

\*\* Pažymėkite teiginius, kurie susiję su globalizacija.

- Procesai, vykstantys šalies viduje
- Visas žmonių gyvenimo sritis apimantis vienodėjimas
- Tradicijų pristatymas pasauliui
- Procesai, vykstantys pasauliniu mastu
- Šalies ekonomikos augimas

Taškų skaičius už teisingą atsakymą: 2

#### Klausimas #42

\* Kurios religijos išpažinėjai privalo bent kartą gyvenime aplankyti šventuosius Mekos ir Medinos miestus?



- Islamo  
 Budizmo  
 Krikščionybė  
 Hinduizmo

Taškų skaičius už teisingą atsakymą: 1

#### Klausimas #43

\*\* Pažymėkite tas visuotines problemas, kurios vienaip ar kitaip veikia Lietuvą.

- Švaraus vandens stygius  
 Aplinkos naikinimas  
 Karai ir terorizmas  
 Gyventojų skaičiaus augimas  
 Migracija ir pabėgėliai  
 Klimato kaita

Taškų skaičius už teisingą atsakymą: 4

#### Klausimas #44

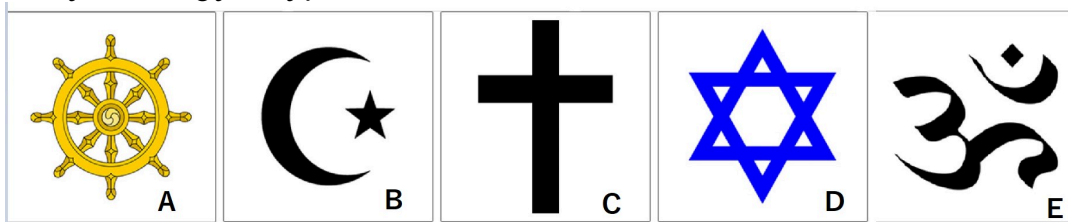
\*Parinkite teisingus atsakymus.

**Vatikana** - katalikų sostinė, mažiausia pasaulio valstybė, kuri yra įsikūrusi **Romo** miesto centre. Aukščiausias katalikų vadovas yra **popiežiu**. Katalikai tiki į **vieną diev**.

Taškų skaičius už teisingą atsakymą: 4

#### Klausimas #45

\*\* Sujunkite religijas su jų simboliais.



- 1 A - ... 3 ... Krikščionybė  
 2 B - ... 2 ... Islamas  
 3 C - ... 1 ... Budizmas  
 4 D - ... 5 ... Hinduizmas  
 5 E - ... 4 ... Judaizmas

Taškų skaičius už teisingą atsakymą: 4

#### Klausimas #46

\*\* Kurios religijos maldos namai matomi nuotraukoje?



- Krikščionybės
- Judaizmo
- Islamo
- Budizmo
- Hinduizmo

*Taškų skaičius už teisingą atsakymą: 1*

#### Klausimas #47

---

\*\*\* Surikiuokite eilės tvarka globalines problemas nuo tos, kuri pastūmėja ir didina kitas globalines problemas.

- 4 Dykumėjimas
- 2 Augantis vartojimas
- 6 Migracija
- 5 Badas ir skurdas
- 3 Miškų kirtimas
- 1 Gyventojų skaičiaus augimas

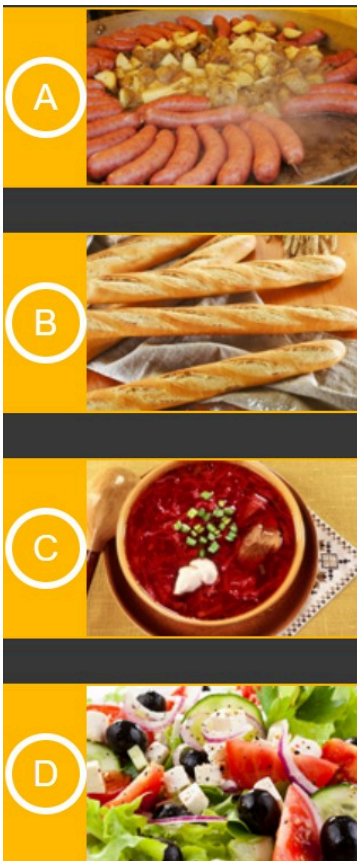
*Taškų skaičius už teisingą atsakymą: 5*

#### Klausimas #48

---

\*\* Su kuriomis valstybėmis susiję šis ir lietuviams gerai žinomas maistas?





- 1 A - ... 4 ... Graikija  
 2 B - ... 2 ... Prancūzija  
 3 C - ... 1 ... Vokietija  
 4 D - ... 3 ... Ukraina

Taškų skaičius už teisingą atsakymą: 3

#### Klausimas #49

\*\*\*Kurie teiginiai apie globalizaciją yra teisingi, o kurie - ne?

1. Penkto Pietų vandenyno išskyrimas taip pat yra globalizacijos rezultatas.  taip  ne
2. JAV prezidento rinkimų rezultatai turės tiesioginės įtakos Lietuvos ekonomikai.  taip  ne
3. Dezinformacija įvairiose žiniasklaidos priemonėse nėra didelė problema visuomenei.  taip  ne
4. Internetas pasaulyje atsirado ir tapo prieinamas XX a. viduryje.  taip  ne
5. Sąžiningos prekybos ženklų žymimos tokios prekės, už kurių pardavimą didžiausią naudą gauna pardavėjai.  taip  ne
6. Labiausiai globalizaciją skatina įvairios ryšio priemonės ir transportas.  taip  ne

Taškų skaičius už teisingą atsakymą: 3